

PROVA OBJETIVA - 20/10/2024

Processo Seletivo Simplificado, em nível Regional (Diretoria de Ensino - Região de Taquaritinga), para contratação temporária de Agente de Organização Escolar - 2024.

* Indica uma pergunta obrigatória

1. E-mail *

2. Prezado(a) Candidato(a) *

Leia atentamente as instruções a seguir:

- **Preencha todos os dados pessoais (nome completo, RG e CPF).**
- **Esta prova possui 30 (trinta) questões objetivas, cada uma contendo 4 (quatro) alternativas.**
- **Para cada questão existe apenas UMA resposta correta.**
- **A prova terá duração de 3 (três) horas, das 9h às 12h.**
- **Não será permitida a finalização da prova após às 12 horas.**
- **Analise cuidadosamente cada uma das questões e assinale a alternativa correta.**
- **Anote suas respostas para a futura conferência com o gabarito.**

Marque todas que se aplicam.

DECLARO QUE ESTOU CIENTE DAS INSTRUÇÕES CONSTANTES ACIMA E NO EDITAL DO PROCESSO SELETIVO.

DADOS PESSOAIS

Os dados aqui inseridos são de inteira responsabilidade do(a) candidato(a).

3. NOME COMPLETO (SEM ABREVIACOES) *

4. RG (COM PONTOS E DGITO) *

5. CPF (COM PONTOS E DGITO) *

PORTUGUS

6. *
Leia o texto e responda à questão 01.

É verdade que o açaí é uma das frutas mais calóricas que existem?

Não é, não. Só para comparar, 100 gramas da fruta têm em média 65 calorias. É o mesmo que 100 gramas de manga ou de maçã, e bem menos que 100 gramas de banana (105 calorias), de abacate (162 calorias) ou do super calórico tamarindo (230 calorias). Mas de onde vem a má fama do açaí? “O que torna o açaí consumido nas lanchonetes bastante calórico é a adição de outros ingredientes no preparo da polpa, como açúcar e xarope de guaraná”, explica o químico Hervé Rogez, da Universidade Federal do Pará (UFPA) e autor do livro Sabor Açaí.

Disponível em: <<http://mundoestranho.abril.com.br/materia/e-verdade-que-o-acai-e-uma-das-frutas-mais-caloricas-que-existem>>. Acesso em: 21 ago. 2013. Fragmento.

01. De acordo com o texto, o

Marcar apenas uma oval.

- A) açaí é uma das frutas mais calóricas que existem.
- B) tamarindo é uma fruta com poucas calorias.
- C) açaí não é uma fruta calórica, se comparado a outras frutas.
- D) açaí não tem fama de ser uma fruta calórica.

7. Leia o texto abaixo e responda à questão 02. *

Pinguim

Os pinguins são aves marinhas que não voam e que podem ser encontradas na Antártida, Nova Zelândia, sul da África, Austrália e América do Sul. Existem diferentes espécies de Pinguim, que possuem muitas características em comum.

Todas as espécies de pinguim possuem o peito branco com as costas e a cabeça de cor preta. Nas patas, eles possuem quatro dedos unidos por uma membrana, que ajuda a nadar mais rápido. [...]

Bons caçadores, os pinguins se alimentam de crustáceos, moluscos, peixes e pequenos animais marinhos. Também são excelentes nadadores: passam a maior parte da vida dentro da água, onde nadam sempre em bandos e conseguem realizar todas suas atividades, até mesmo dormir.

Disponível em: <https://www.dentrodahistoria.com.br/blog/educacao/curiosidades-animais-gelo/>.

Acesso em: 26 nov. 2020. Fragmento. (SUP04012017)

02. No trecho “Nas patas, eles possuem quatro dedos unidos...”, a palavra “eles” está no lugar de

Marcar apenas uma oval.

- A) crustáceos.
- B) moluscos.
- C) peixes.
- D) pinguins.

8. Leia o texto abaixo e responda à questão 03. *

Raul no ônibus

Ana Maria Machado

[...]

De tanto prestar atenção em tudo, nos outros, na vida de cada um, **Raul** se distraiu. Até esqueceu que tinha resolvido pensar. Já estava quase chegando em **casa**. Um pouco antes de saltar, viu que a lavadeira tinha tocado a campainha para descer. E bem na hora em que ela ia descendo os degraus, carregando aquela trouxa [de roupa] pesada, o motorista acelerou o **motor**, fazendo um barulhão e reclamando porque ela estava demorando:

— Como é dona **Maria**? Vai ficar a vida toda aí, é? Pensa que tá todo mundo à toa?

Ela começou a pedir desculpas, toda atrapalhada.

Raul ficou uma fera. E começou a falar:

— Moço, o senhor não está vendo que ela está descendo e carregando peso?

Faça o favor de esperar.

O motorista respondeu:

— A conversa não chegou na cozinha. Cala a boca, pirralho.

Sem pensar, Raul respondeu:

— Cala a boca já morreu. Quem manda em mim sou eu.

[...]

MACHADO, Ana Maria. Raul da ferrugem azul. 40. ed. Rio de Janeiro: Salamandra; Brasília: INL, 1979. p. 44. (adaptado)

03. As palavras sublinhadas no texto têm a finalidade de indicar

Marcar apenas uma oval.

- A) qualidades.
- B) lugares.
- C) nomes.
- D) ações.

9. Leia o texto abaixo e responda à questão 04. *

Ao escrever um trecho da história “O Pequeno Polegar” de Charles Perrault, um estudante errou a escrita de 4 palavras (marcadas no texto).

“Mas, Polegar, cempre muito ativo, subiu em uma grande árvore e, lá do alto, viu uma luz brilhar ao longe. Imaginou que seria a luz de uma caza. Sem hesitar, o garoto desseu da árvore e, guiando os irmãos, comesou a andar na direção daquela luzinha distante.”

04. Em qual alternativa essas palavras estão escritas de forma correta?

Marcar apenas uma oval.

- A) Sempre, cassa, desceu, começou.
- B) Sempre, casa, deceu, começou.
- C) Cempre, casa, desceu, começou.
- D) Sempre, casa, desceu, começou.

10. Leia o trecho do conto “O Príncipe-rã ou Henrique de Ferro” dos Irmãos Grimm e responda à questão 05. *

[...] No dia seguinte, quando o rei, a rainha e as filhas _____ jantando, _____ um barulho estranho: Plaft!... Plaft!... alguém estava subindo a escadaria de mármore do palácio... O barulho _____ bem em frente à porta, e alguém _____:

— Abra a porta, filha mais nova do rei! A princesa foi atender e, quando deu com a rã, tornou a fechar a porta bem depressa e voltou para a mesa. O rei reparou que ela estava vermelhinha e apavorada. [...]

São Paulo (Estado) Secretaria da Educação. Ler e escrever: livro de textos do aluno / Secretaria da Educação, Fundação para o Desenvolvimento da Educação. 3. ed. São Paulo: FDE, 2010.

05. No trecho do conto, as lacunas podem ser preenchidas, respectivamente, com os seguintes verbos:

Marcar apenas uma oval.

- A) Estava; ouviu; cessou; chamou.
- B) Estavam; ouviram; cessou; chamou.
- C) Estava; ouviu; cessaram; chamaram.
- D) Estavam; ouviram; cessaram; chamou.

11.

*

Leia o texto abaixo para responder à questão 06.

As minhocas

As minhocas são muito _____ para o homem.

As minhocas abrem _____ na terra cavando túneis. Com essa atividade, elas ajudam a manter a qualidade do solo – a terra fica mais _____, fértil e produtiva. Assim, elas fazem muito bem para a terra e para o plantio. Por isso, em muitos lugares, elas são vendidas para o uso na _____.

Revista Lição de Casa. São Paulo: Klick Editora, n.º 21, p. 4-5. Adaptado

06. De acordo com a norma-padrão, as lacunas no texto podem ser correta e respectivamente preenchidas por

Marcar apenas uma oval.

- A) importantes; caminho; ventiladas; agricultura.
- B) importantes; caminhos; ventilada; agricultura.
- C) importante; caminho; ventiladas; agriculturas.
- D) importantes; caminhos; ventilada; agriculturas.

12. Leia o texto e responda à questão 07. *

A galinha dos ovos de ouro

Era uma vez um fazendeiro que tinha uma galinha. Um dia ele percebeu que a galinha havia botado um ovo de ouro! Ele então pegou o ovo e foi logo mostrar para a esposa:

— Olha só! Ficaremos ricos!

Assim, foi até a cidade e vendeu o ovo por um bom valor. [...]

Disponível em: <<https://www.culturagenial.com/contos-infantis-que-as-criancas-vaio-adorar/>>. Acesso em: 30 jun. 2023.

07. Na frase “— Olha só! Ficaremos ricos!” o ponto de exclamação mostra que o fazendeiro estava

Marcar apenas uma oval.

- A) calmo.
- B) com raiva.
- C) animado.
- D) com medo.

13. Leia o trecho e responda à questão 08. *

JECA TATU - Capítulo I

Jeca Tatu era um pobre caboclo que morava no mato, numa casinha de sapé. Vivia na maior pobreza, em companhia da mulher, muito magra e feia, e de vários filhinhos pálidos e tristes. Jeca Tatu passava os dias de cócoras, sem ânimo de fazer coisa nenhuma. **la ao mato caçar, tirar palmitos, cortar cachos de brejaúva, mas não tinha ideia de plantar um pé de couve atrás da casa.** Perto corria um ribeirão, onde ele pescava de vez em quando uns lambaris e um ou outro bagre. E assim ia vivendo. Dava pena ver a miséria do casebre. Nem móveis, nem roupas, nem nada que significasse comodidade. Um banquinho de três pernas, umas peneiras furadas, a espingardinha de carregar pela boca, muito ordinária, e só.

Todos que passavam por ali, murmuravam: - Que grandessíssimo preguiçoso!

Disponível em: Revista de Divulgação Científica para Crianças
Anos 19, no 165, janeiro/fevereiro de 2006. p. 8

08. O uso das vírgulas no trecho “**la ao mato caçar, tirar palmitos, cortar cachos de brejaúva, mas não tinha ideia de plantar um pé de couve atrás da casa.**”, tem como função

Marcar apenas uma oval.

- A) indicar o fim de uma frase.
- B) mostrar entusiasmo, forte emoção.
- C) introduzir uma explicação necessária à compreensão.
- D) separar elementos de uma frase que podem ser listados.

14. Leia o texto e responda à questão 09. *

Conheça curiosidades para comemorar o 'Dia da Pizza'...

SÃO PAULO, 10 JUL (ANSA) - Por Luciana Ribeiro | 10/07/2019 14h53

O Dia Nacional da Pizza é celebrado nesta quarta-feira (10) no Brasil e, para comemorar a data, diversos restaurantes, pizzarias e estabelecimentos em várias cidades do país farão promoções e festivais. De tanta tradição italiana, a Unesco elegeu em dezembro de 2017 a "Arte dos Pizzaiolos Napolitanos" como

Patrimônio Imaterial da Humanidade. Criada na Itália, a pizza encontrou em São Paulo um forte expoente, com milhares de amantes da massa. Assim, em 1985, o secretário de turismo promoveu um concurso estadual para eleger as dez melhores receitas de margherita e mozzarella. O sucesso foi tamanho que ele determinou que o dia de encerramento, 10 de julho, seria a data oficial para homenagear a pizza. [...]

Disponível em: <https://noticias.uol.com.br/ultimas-noticias/ansa/2019/07/10/conheca-curiosidades-para-comemorar-odia-da-pizza.htm>. Acesso em: 04 jan. 2024. Fragmento Adaptado.

09. O que a Unesco elegeu, em dezembro de 2017, como Patrimônio Imaterial da Humanidade?

Marcar apenas uma oval.

- A) Várias promoções e festivais.
- B) O dia da "Arte dos Pizzaiolos Napolitanos".
- C) Concurso estadual para eleger as melhores pizzas.
- D) As melhores receitas de pizzas margherita e mozzarella.

15. Leia o bilhete e responda à questão 10. *

Paulo,

Segue a lista dos materiais que temos de comprar hoje:

- 10 Canetas
- 01 caixa de lapis de cor
- Papel sulfite

So isso, por enquanto!

Beijos,
Carla

10. Podemos observar que está faltando acento gráfico em duas palavras do bilhete. Essas palavras são

Marcar apenas uma oval.

- A) lista e sulfite.
- B) beijos e Carla.
- C) Paulo e papel.
- D) So e lapis.

MATEMÁTICA

16. 11. No estacionamento de uma escola têm carros estacionados em 6 fileiras. Em cada fileira há 5 carros. Dessa forma, qual a capacidade deste estacionamento? *

Marcar apenas uma oval.

- A) 10 carros
- B) 12 carros
- C) 29 carros
- D) 30 carros

17. 12. Leia a propaganda a seguir. *

CURSO
DE Confeitaria

Você vai aprender:

- 15 massas de bolos diferentes
- Massa folhada para doces e salgados
- 22 Recheios de bolos lucrativos
- 30 Coberturas diferentes

por apenas
R\$ 96
mensal

Inscrições abertas

Duração:
7 meses

IMAGEM: Canvas

Na propaganda, o curso de Confeitaria oferecido tem o custo de R\$ 96,00 mensais. Sabendo que o cursista irá pagar, durante todo o curso, uma parcela por mês, qual valor deverá ser pago no final desse período?

Marcar apenas uma oval.

- A) R\$ 632,00
- B) R\$ 662,00
- C) R\$ 672,00
- D) R\$ 658,00

18. 13. Analise o gráfico de linhas *

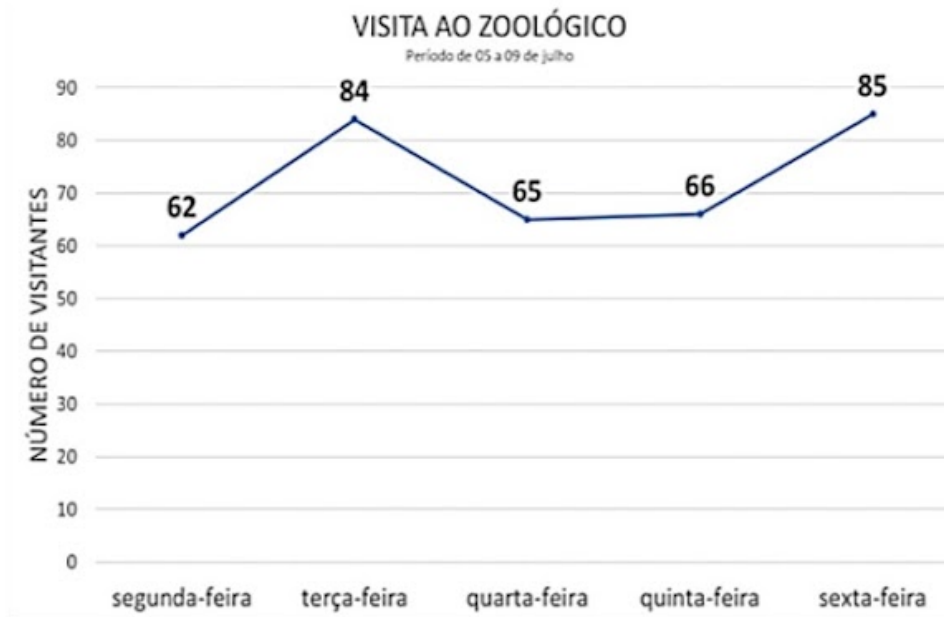


IMAGEM: Pixabay- Creative Commons

De acordo com o gráfico, os dias da semana em que o zoológico recebeu maior número de visitantes foram

Marcar apenas uma oval.

- A) segunda-feira e terça-feira.
- B) quarta-feira e quinta-feira.
- C) terça-feira e sexta-feira.
- D) quarta-feira e terça-feira.

19. 14. Um jogo de Playstation era anunciado pelo valor de R\$ 120,00. Após alguns dias, esse preço sofreu um aumento de 10%. Qual o novo valor desse jogo? *

Marcar apenas uma oval.

- A) 132 reais
- B) 126 reais
- C) 125 reais
- D) 120 reais

20. 15. Leia o problema e responda à questão. *


Luiz é entregador em uma loja de materiais de construção e, em determinado dia, efetuou 3 entregas. Na primeira entrega, ele levou 25 kg de cimento; na segunda, 32 kg de areia; na terceira, 32,5 kg de pedra. Ao todo, quantos kg de materiais de construção Luiz entregou nesse dia?

Marcar apenas uma oval.

- A) 57,0 kg.
- B) 64,5 kg.
- C) 89,0 kg.
- D) 89,5 kg.

21. 16. Leia a seguir os ingredientes de uma receita. *

Para preparar bolinhos de chuva para 8 pessoas é preciso:



pirabay.com

- 2 ovos.
- 2 xícaras de açúcar.
- 1 xícara de (chá) de leite.
- 3 xícaras de farinha de trigo.
- 1 colher de (sopa) fermento em pó.

Quantas xícaras de farinha de trigo serão necessárias para o preparo de bolinhos de chuva para 16 pessoas?

Marcar apenas uma oval.

- A) 3 xícaras.
- B) 6 xícaras.
- C) 2 xícaras.
- D) 1 xícara.

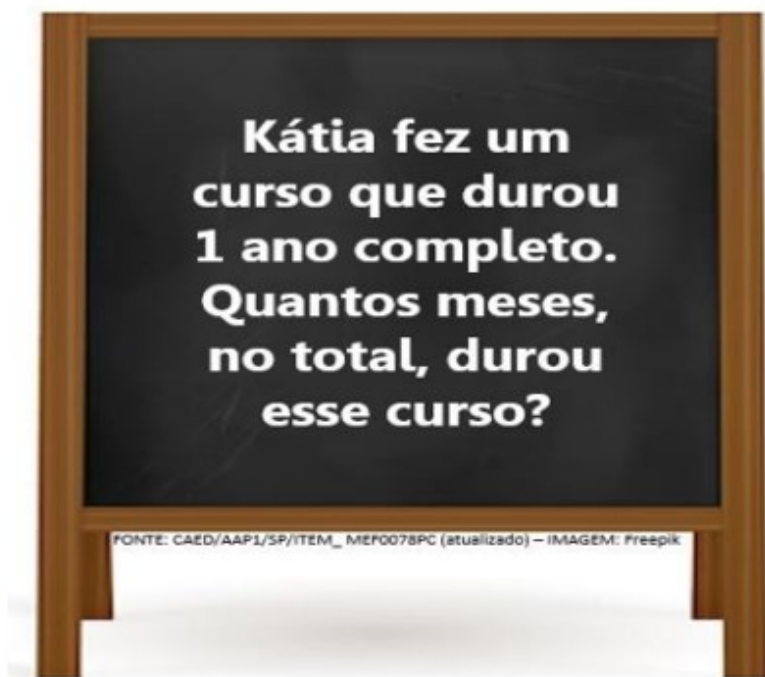
22. 17. Leia a situação a seguir e responda à questão. *

Certo dia, uma fábrica produziu 1 836 latinhas de refrigerante. Essas latinhas foram embaladas em fardos, contendo 6 latinhas em cada fardo. Nesse dia, quantos fardos foram embalados nessa fábrica?

Marcar apenas uma oval.

- A) 306.
- B) 3000.
- C) 1 830.
- D) 1 842

23. 18. Leia a situação escrita na lousa. *



Marcar apenas uma oval.

- A) 13.
- B) 12.
- C) 11.
- D) 10.

24. 19. Leia o problema a seguir e responda à questão. Bruna foi a uma loja e comprou duas blusas. Uma delas custou R\$ 19,90, e a outra R\$ 26,80. Para realizar o pagamento, Bruna utilizou uma nota de R\$ 100,00. Quanto Bruna recebeu de troco nessa compra? *

Marcar apenas uma oval.

- A) R\$ 43,30.
- B) R\$ 73,00.
- C) R\$ 55,00.
- D) R\$ 53,30.

25.

*

20. Leia o problema a seguir.

Paula foi ao cinema com sua mãe. Sua mãe pagou R\$50,00, no ingresso de modalidade inteira.

Sabendo que Cristina tem direito a meia entrada. Ela pagou no seu ingresso

Marcar apenas uma oval.

- A) R\$ 25,00.
- B) R\$ 50,00.
- C) R\$ 75,00.
- D) R\$ 100,00.

NOÇÕES DE INFORMÁTICA

26. 21. Qual dos seguintes elementos é necessário para enviar um e-mail? *

Marcar apenas uma oval.

- A) Um número de telefone
- B) Um endereço de e-mail do remetente e do destinatário
- C) Uma impressora
- D) Um aplicativo de música

27. 22. Qual a principal função do WORD? *

Marcar apenas uma oval.

- A) Fazer cálculos
- B) Edição de imagens
- C) Criação de conteúdo digital
- D) Criar e formatar documentos

28. 23. Qual das opções abaixo corresponde a uma rede social muito popular no Brasil? *

Marcar apenas uma oval.

- A) Facebook
- B) ToonApp
- C) CSMP
- D) SnapChat

29. 24. O que é um site? *

Marcar apenas uma oval.

- A) Um aplicativo de celular
- B) Um conjunto de páginas na internet que podem ser acessado
- C) Um tipo de jogo eletrônico
- D) Um aparelho de armazenar informações

30. 25. O que significa "salvar um arquivo"? *

Marcar apenas uma oval.

- A) Excluir o arquivo do computador
- B) Armazenar as informações para que possam ser acessadas depois
- C) Imprimir o arquivo em papel
- D) Enviar o arquivo por e-mail

CONHECIMENTOS ESPECÍFICOS

31. 26. De acordo com a Lei 10.261, de 28 de outubro de 1968, assinale a alternativa que não se enquadra nos deveres do funcionário. *

Marcar apenas uma oval.

- A) Ser assíduo e pontual.
- B) Desempenhar com zelo e presteza os trabalhos de que for incumbido.
- C) Guardar sigilo sobre os assuntos da repartição.
- D) Não cumprir as ordens legais dos superiores.

32. 27. Quanto aos deveres dos funcionários, previstos no Estatuto dos Funcionários Públicos Civis do Estado de São Paulo – Lei Estadual nº 10.261/68, e suas respectivas alterações, assinale a alternativa correta. *

Marcar apenas uma oval.

- A) Faltar constantemente ao trabalho que lhe for incumbido.
- B) Desempenhar com imprudência os trabalhos de que forem incumbidos.
- C) Tratar com arrogância os companheiros de serviço e as partes.
- D) Cooperar e manter espírito de solidariedade com os companheiros de trabalho.

33. 28. De acordo com a Lei 1.144, de 11/07/2017, assinale a alternativa que não faz parte das funções do agente de organização escolar. *

Marcar apenas uma oval.

- A) Controlar a movimentação dos estudantes nas dependências da escola.
- B) Auxiliar na manutenção da disciplina dos estudantes nas horas em que eles estiverem fora da sala-de-aula.
- C) Preparar e distribuir merenda aos estudantes.
- D) Contribuir com a gestão escolar na organização de atividades.

34. 29. O Agente de Organização Escolar possui uma jornada de trabalho de quantas horas semanais? *

Marcar apenas uma oval.

- A) 10 horas semanais.
- B) 40 horas semanais.
- C) 30 horas semanais.
- D) 20 horas semanais.

35. 30. De acordo com o Código de Ética da Administração Pública Estadual, é dever do agente público, em sua função ou fora dela, observar a dignidade, o decoro, o zelo e os princípios morais, evitando qualquer conflito de interesses e: *

Marcar apenas uma oval.

- A) ter em vista o interesse público e o bem comum.
- B) ter em vista o bem comum.
- C) ter em vista o interesse particular.
- D) ter em vista o interesse público.

Fonte:

- LEI COMPLEMENTAR Nº 1.144, DE 11 DE JULHO DE 2011
(Última atualização: Lei Complementar nº 1.388, de 11/07/2023)

- LEI Nº 10.261, DE 28 DE OUTUBRO DE 1968
(Última atualização: Lei Complementar nº 1.374, de 30 de março de 2022)

CLIQUE NO BOTÃO "ENVIAR" PARA FINALIZAR SUA PROVA.

Este conteúdo não foi criado nem aprovado pelo Google.

Google Formulários

