

## DIRETORIA DE ENSINO - REGIÃO DE TUPÃ

Comunicado

Processo Seletivo Simplificado de Agente de Organização Escolar - 2024

A Comissão Especial de Contratação por Tempo Determinado – CE – CTD – da Diretoria de Ensino Região de Tupã, nos termos do Edital de Abertura de Inscrições nº 003/2024, publicado em 14/03/2024, torna público o Gabarito da prova objetiva realizada em 14/04/2024 conforme segue:

I - O candidato poderá interpor recurso dirigido à Comissão Especial de Contratação por Tempo Determinado da Diretoria de Ensino - Região de Tupã localizada na Praça da Bandeira, 900, Centro – Tupã SP, devidamente fundamentado, no período de **18, 19 e 20 através do Link que será disponibilizado no site da Diretoria de Ensino (<https://detupa.educacao.sp.gov.br>)**

II - Será desconsiderado o recurso realizado em local diferente do estabelecido ou fora do prazo estipulado.

III - A decisão sobre os recursos interpostos será dada a conhecer coletivamente por meio de publicação no Diário Oficial do Estado de São Paulo (D.O.) e site da Diretoria de Ensino – Região de Tupã –

GABARITO

QUESTÕES

QUESTÕES	
01	A
02	C
03	D
04	B
05	C
06	B
07	A
08	E
09	E
10	D
11	A
12	A
13	D
14	E
15	E
16	A
17	E
18	B
19	C
20	B

# Prova - 14/04/2024 das 9h as 12h

O prazo final para enviar o formulário é até as 12h. Após esse horário, o formulário não aceitará mais respostas. Por favor, certifique-se de enviar suas respostas antes do prazo estabelecido.

\* Indica uma pergunta obrigatória

---

1. E-mail \*

---

2. Nome completo: \*

---

3. RG: \*

Ex: 22222222/SP

---

4. CPF: \*

Ex: 000.000.000-00

---

5. Data de Nascimento: \*

*Exemplo: 7 de janeiro de 2019*

## Prova Objetiva

## Questões de Português

6. 1 - Indique a alternativa onde nenhuma palavra está graficamente correta. \*

*Marcar apenas uma oval.*

- a) Descanço – encomodar - excessão - Impecilho
- b) Paralizado - trilogia - cérebro – sobrançelha
- c) Asterístico – losango – frustrado – requerer
- d) Beneficiente – intermedeie - reivindicar - compele
- e) Nenhuma das alternativas

Leia o texto a seguir para responder as questões 2 e 3:

### **Educação Financeira passa a ser disciplina nas escolas: 1 milhão de alunos aprendem a cuidar do dinheiro**

*Terça-Feira, 26/03/2024*

Com a mudança da matriz curricular, a Secretaria da Educação do Estado de São Paulo (Seduc-SP) incluiu aulas de educação financeira no currículo das três séries do Ensino Médio e dos 8º e 9º anos do Ensino Fundamental a partir deste ano. A proposta visa ampliar o aprendizado de matemática e permitir aos estudantes construir uma relação melhor com o dinheiro ao longo da vida.

Mais de um milhão de estudantes da rede estadual têm acesso semanal às aulas, com material didático construído pela Coordenadoria Pedagógica (Coped) da Educação de SP.

“O currículo de educação financeira criado pela Secretaria permite que os jovens compreendam o valor do dinheiro, desenvolvam hábitos saudáveis de consumo e poupança, e construam uma base sólida para o futuro. Na vida adulta, essa base se traduz em maior segurança e autonomia para lidar com diferentes situações financeiras, desde o planejamento de metas de curto e longo prazo até a escolha de investimentos adequados ao perfil de cada um”, diz o professor Rafael José Dombrauskas Polonio, técnico da equipe curricular de matemática da Seduc-SP.

Fonte: <https://www.educacao.sp.gov.br/educacao-financeira-educacao-inclui-disciplina-no-curriculo-e-1-milhao-de-alunos-va-aprender-lidar-com-o-dinheiro-em-sala-de-aula/>  
acesso em 05.04.2024

7. 2 - Segundo o texto, é correto afirmar que: \*

*Marcar apenas uma oval.*

- a) Incluiu-se a Educação Financeira para a 3ª Série do ensino médio e 8º e 9º anos do Ensino Fundamental.
- b) O Material Didático construído pela Seduc-SP é completo e preparado para as aulas semanais de mais de um milhão de estudantes.
- c) A disciplina de Educação Financeira permite que os jovens ampliem o aprendizado de matemática, compreendam o valor do dinheiro, construindo uma base sólida para o futuro.
- d) O professor Rafael José Dombrauskas Polonio diz que os adultos buscam segurança e autonomia para lidar com diferentes situações financeiras.
- e) Educação Financeira não será disciplina curricular.

8. 3 - O texto acima é: \*

*Marcar apenas uma oval.*

- a) Um conto
- b) Uma crônica
- c) Uma fábula
- d) Uma notícia
- e) Um relato

9. 4 - Leia os fragmentos abaixo, para responder à questão:

\*

- *Ele era um funcionário presunçoso, por isso não trabalha mais aqui!*

- *Busque um detetive sagaz, que resolva todos os mistérios.*

As palavras “presunçoso” e “sagaz” em termos de significação, tem, respectivamente, o mesmo sentido que as palavras:

*Marcar apenas uma oval.*

- a) Ponderado e honesto
- b) Arrogante e esperto
- c) Preguiçoso e leal
- d) Discreto e sincero
- e) Nenhuma das alternativas

10. 5 - Ao ler as informações que aparecem no anúncio abaixo pode-se afirmar que: \*

**CAMPAÑA DO AGASALHO 2018**

**O SEU GUARDA-ROUPA ESCONDE VERDADEIROS TESOUROS.**

Toda roupa em bom estado que você doa tem um grande valor para aqueles que sofrem com a chegada do inverno.

**Seja solidário e participe desta campanha.**  
Central de Doações: 51 3288.6781 | Mais informações: [rs.gov.br](http://rs.gov.br)

Apoio: Realização:

Marcar apenas uma oval.

- a) Campanha do agasalho é para recolher fantasias de inverno.
- b) Crianças tem muitas roupas de frio em bom estado.
- c) A Roupas doada a quem sente frio é comparada a um tesouro.
- d) Uma roupa em bom estado é aquela que foi paga um grande valor.
- e) Nenhuma das alternativas

### Questões de Conhecimentos Específicos

## 11. 6 - A LEI COMPLEMENTAR N° 1.144, DE 11 DE JULHO DE 2011

\*

(Última atualização: Lei Complementar n° 1.388, de 11/07/2023)

Prevê:

**Artigo 4°** - Caberá aos integrantes das classes do Quadro de Apoio Escolar as seguintes atribuições:

**I** - Agente de Organização Escolar: desenvolver atividades no âmbito da organização escolar, relacionadas com a execução de ações envolvendo a secretaria escolar e o atendimento a alunos e à comunidade escolar em geral, de acordo com as necessidades da unidade escolar;

**II** - Agente de Serviços Escolares: executar tarefas relacionadas à limpeza, manutenção e conservação da unidade escolar, e ao controle e preparo da merenda escolar.

A partir do que preconiza a Lei nº1.144, assinale a alternativa correta quanto as atribuições do AOE:

*Marcar apenas uma oval.*

- a) Devem executar tarefas relacionadas à limpeza, manutenção e conservação da unidade escolar.
- b) Devem desenvolver atividades de organização escolar conforme as necessidades da unidade escolar.
- c) Devem desenvolver atividades pedagógicas em sala de aula.
- d) Devem executar tarefas pedagógicas.
- e) Devem organizar materiais escolares e alimentícios de forma geral.

12. 7 - A CONSTITUIÇÃO ESTADUAL, DE 05 DE OUTUBRO DE 1989, assegura em seu artigo 111 que, \*
- A administração pública direta, indireta ou fundacional, de qualquer dos Poderes do Estado, obedecerá aos princípios de legalidade, impessoalidade, moralidade, publicidade, razoabilidade, finalidade, motivação, interesse público e eficiência.
- (NR)

- *Artigo 111 com redação dada pela [Emenda Constitucional n° 21, de 14/02/2006](#).*

Assinale a alternativa correta:

*Marcar apenas uma oval.*

- a) O AOE deve sempre zelar por todos os princípios presentes no artigo 111.
- b) O AOE não deve zelar por todos os princípios presentes no artigo 111.
- c) O AOE deve zelar pelo princípio da impessoalidade apenas.
- d) O AOE deve zelar pelo princípio da legalidade apenas.
- e) O AOE deve zelar pelo princípio da razoabilidade apenas.

13. 8 - Com relação ao exercício do cargo do Servidor Público, de acordo com a Lei n° 10261/68, após a data da "posse" indique a opção CORRETA: \*

*Marcar apenas uma oval.*

- a) Artigo 60 - O exercício do cargo terá início dentro do prazo de 60 (sessenta) dias, contados.
- b) Artigo 60 - O exercício do cargo terá início dentro do prazo de 40 (quarenta) dias, contados.
- c) Artigo 60 - O exercício do cargo terá início dentro do prazo de 50 (cinquenta) dias, contados.
- d) Artigo 60 - O exercício do cargo terá início dentro do prazo de 90 (noventa) dias, contados.
- e) Artigo 60 - O exercício do cargo terá início dentro do prazo de 30 (trinta) dias, contados.



14. 9 - De acordo com a Lei nº 10261/68, o ato pelo qual o funcionário público assume as atribuições e responsabilidade do cargo é a(o): \*

*Marcar apenas uma oval.*

- a) Desempenho
- b) Progressão
- c) Posse
- d) Nomeação
- e) Exercício

15. 10 - Durante o estágio probatório, o servidor será submetido a avaliação especial de desempenho, verificando-se a sua aptidão e capacidade para o exercício das atribuições inerentes ao cargo que ocupa, observado os seguintes critérios: \*

**I** - assiduidade;

**II** - disciplina;

**III** - iniciativa;

**IV** - produtividade;

**V** - responsabilidade.

Assinale a alternativa correta:

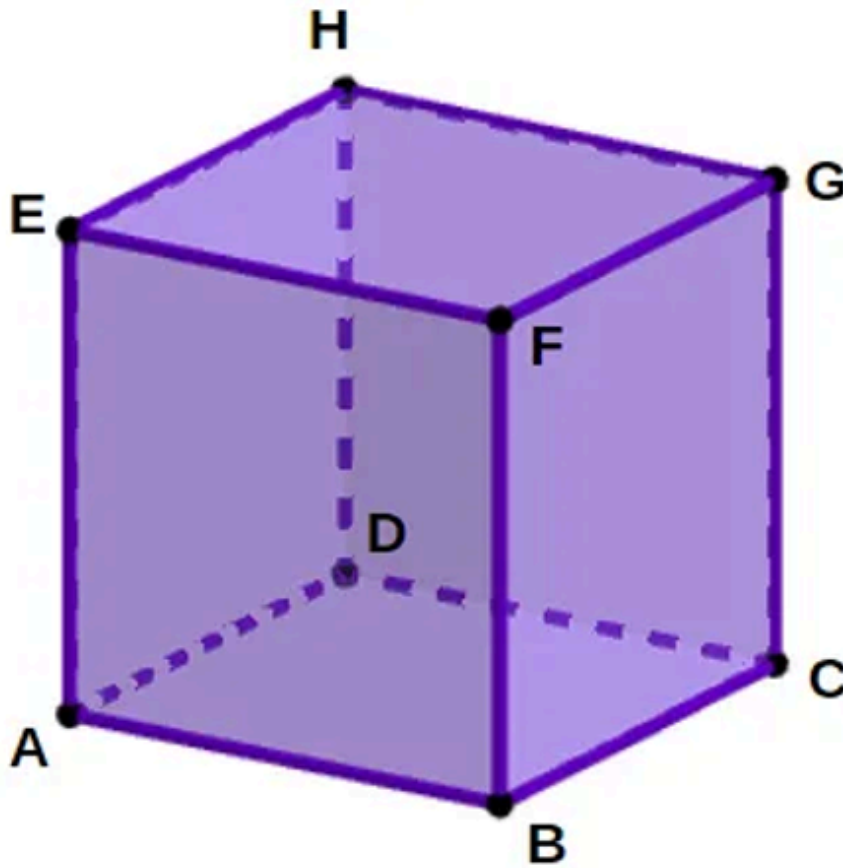
*Marcar apenas uma oval.*

- a) Os critérios I, II e III São verdadeiros.
- b) Os critérios I, III e V São verdadeiros.
- c) Os critérios I, IV e V São verdadeiros.
- d) Todos os critérios são verdadeiros.
- e) Os critérios III, IV e V são verdadeiros.

## Questões de Matemática

16. 11 - Analise a imagem do cubo a seguir: \*

Considerando **ABCDEFGH**, podemos afirmar que são \_\_\_\_\_ do cubo.



Marcar apenas uma oval.

- a) vértices
- b) arestas
- c) faces
- d) raios
- e) áreas

12 - Maria recebeu as seguintes notas em suas redações ao longo de quatro provas:

Provas	Notas
1ª	82
2ª	90
3ª	88
4ª	92

17. Qual é a média de suas notas de redação? \*

*Marcar apenas uma oval.*

a) 88

b) 89

c) 90

d) 91

e) 92

18. 13 - Observe a barra de chocolate a seguir e responda: quantos quadradinhos deve-se comer para consumir  $\frac{1}{3}$  da barra? \*



Marcar apenas uma oval.

- a) 2
- b) 3
- c) 4
- d) 5
- e) 6

19. 14 - Pedro foi a um barzinho e pediu duas porções: uma de mandioca e outra de torresmo. Além disso, também consumiu um refrigerante. A porção de mandioca custou R\$ 21,90, a porção de torresmo R\$ 25,90 e o refrigerante R\$ 12,00. Para pagar a sua conta, entregou uma nota de R\$ 100,00. Quanto Pedro recebeu de troco? \*

Marcar apenas uma oval.

- a) R\$ 88,00
- b) R\$ 47,80
- c) R\$ 59,80
- d) R\$ 52,20
- e) R\$ 40,20

20. 15 - Na loja "Mundo Kids", o valor inicial de um conjunto infantil era de R\$ 150,00. Em comemoração ao Dia das Crianças, a loja ofereceu um desconto de 30%. Qual será o novo valor do conjunto após o desconto? \*

*Marcar apenas uma oval.*

- a) R\$ 165,00
- b) R\$ 135,00
- c) R\$ 120,00
- d) R\$ 110,00
- e) R\$ 105,00

### Questões de Informática


21. 16 - No Pacote Office, após selecionar uma palavra ou texto, para copiar e colar em outro documento podemos utilizar os comandos: \*

*Marcar apenas uma oval.*


- a) Ctrl+C e Ctrl+V
- b) Ctrl+B e Ctrl+A
- c) Ctrl+D e Ctrl+X
- d) Ctrl+T e Ctrl+L
- e) Ctrl+P e Ctrl+O

22. 17 - Qual alternativa indica aplicativos específicos para navegar na internet? \*


Marcar apenas uma oval.




a)



b)



c)



d)



e)

23. 18 - As redes sociais são espaços virtuais por meio dos quais grupos de pessoas ou empresas se relacionam através do envio de mensagens, da partilha de conteúdo, entre outros. Atualmente existem diferentes redes sociais, cada uma com um propósito e um público-alvo específico. Sobre essas novas tecnologias de comunicação, pode-se afirmar que: \*

*Marcar apenas uma oval.*

- a) O aplicativo Uber destina-se ao envio de mensagens coletivas e encontros amorosos.
- b) O Facebook é uma mídia social bastante ampla na qual os usuários postam comentários, compartilham fotos e links para notícias, entre outros.
- c) O Tinder é um aplicativo criado com o intuito de gerenciar dados voltados à inserção no mercado de trabalho.
- d) O Whatsapp é uma opção de mobilidade que conecta usuários a motoristas parceiros.
- e) O LinkedIn é um aplicativo voltado para a comunicação entre usuários isolados ou em grupos.

19 - Eduardo, que possui o endereço de correio eletrônico *eduardo@gmail.com*, deseja enviar um e-mail a seus colegas de trabalho Maria, João e Bruno, cujos endereços eletrônicos estão identificados pelos respectivos nomes e representados na figura abaixo.

**Nova mensagem**

Para **maria@gmail.com**

Cc **joao@gmail.com**

Cco **bruno@gmail.com**

---

Assunto

---

24. O colega Bruno decide responder à mensagem, utilizando para isso a opção **“Responder para todos”**. \*

Diante da situação apresentada, assinale a alternativa que apresenta quem receberá a resposta enviada por Bruno.

*Marcar apenas uma oval.*

- a) Maria e Eduardo
- b) Maria e João
- c) Eduardo
- d) Maria, João, Bruno e Eduardo
- e) Bruno e Eduardo

25. 20 - A tecnologia de rede utilizada para transmitir dados em até 10 centímetros de distância dá-se o nome de \*

*Marcar apenas uma oval.*

- a) Wi-Fi.
- b) Bluetooth.
- c) NFC.
- d) QR Code.
- e) Wireless.

26. ENCERRAR A PROVA E ENVIAR MEU FORMULÁRIO. \*

*Marcar apenas uma oval.*

- ESTOU CIENTE DE QUE O PREENCHIMENTO/ENVIO DA PROVA ON-LINE MAIS DE UMA VEZ ACARRETERÁ NA DESCLASSIFICAÇÃO DE TODO PROCESSO.

---

Este conteúdo não foi criado nem aprovado pelo Google.

Google Formulários