

# PROVA E GABARITO DO PROCESSO SELETIVO PARA AGENTE DE ORGANIZAÇÃO ESCOLAR – AOE – LESTE 2

Prova aplicada em 18/05/2022 – 30 Questões

## LÍNGUA PORTUGUESA



Leia o texto para responder às questões 1 a 3.

**CORONAVÍRUS (COVID 19)**

**QUAIS OS CUIDADOS QUE DEVEMOS TER?**

- 1. EVITE CRIAR PÂNICO**  
O vírus já era esperado e, para evitar o seu crescimento, basta só seguir todas as ações de prevenção.
- 2. SEM FAKE NEWS**  
Só compartilhe informações de fonte confiável, como as dos órgãos da saúde.
- 3. SEM BEIJO, ABRAÇO E APERTO DE MÃO**  
É hora de mudar um pouco o nosso hábito caloroso de cumprimentar as pessoas. É só por um tempo e para o bem de todos.
- 4. CUIDE DOS IDOSOS**  
Visitas às pessoas acima de 60 anos podem esperar. Os idosos são um dos grupos de risco e devemos preservar a saúde deles.
- 5. EVITE AGLOMERAÇÕES**  
É importante evitar lugares fechados e com muitas pessoas. Procure ficar e trabalhar de casa.

**PREVINA-SE E VAMOS JUNTOS FAZER A NOSSA PARTE**

 **GOVERNO DO ESTADO** | BAHIA. AQUI É TRABALHO. |  @saudegovba | [saude.ba.gov.br/coronavirus](https://saude.ba.gov.br/coronavirus)

1 – O que as expressões “É só por um tempo” e “podem esperar” indicam, por parte do governo da Bahia:

- A) Ideia de desespero.
- B) **Ideia de cuidado.**
- C) Ideia de aceleração.
- D) Ideia de manutenção.
- E) NDA – Nenhuma das anteriores.

2 – No ponto 1, a frase “para evitar o seu crescimento” está entre vírgulas, pois:

- A) Separa expressões.
- B) Enfatiza uma informação.
- C) Tornar o texto mais coeso.
- D) Devido a utilização da Norma Culta.
- E) TA – Todas as anteriores.

3 – A expressão “vamos juntos” indica:

- A) Que se trata da primeira pessoa do plural.
- B) Que se trata da terceira pessoa do plural.
- C) Que o governo tomará todas as ações pra si.
- D) TA – Todas as anteriores.
- E) NDA – Nenhuma das anteriores.

Leia o texto abaixo para responder as questões 4 e 5.



4 – Assinale a alternativa que só contenha os verbos utilizados no texto:

- A) Psiu, tem, está, é.
- B) Fala, tem, está, também.
- C) Fala, tem, é, também.
- D) Fala, tem, está, é.
- E) Psiu, fala, tem, é, também

5 – “Doente em casa” se trata:

- A) Sentido figurado.
- B) Sentido explícito.
- C) Sentido próprio.
- D) Ironia.
- E) NDA – Nenhuma das anteriores.

**Leia o excerto para responder as questões 6 a 8.**

## CAPÍTULO 34

### A Uma Alma Sensível

Há aí, entre as cinco ou dez pessoas que me lêem, há aí uma alma sensível, que está decerto um pouquinho agastada com o capítulo anterior, começa a tremer pela sorte de Eugênia, e talvez.., sim, talvez, lá no fundo de si mesma, me chame cínico. Eu cínico, alma sensível? Pela coxa de Diana! esta injúria merecia ser lavada com sangue, se o sangue lavasse alguma coisa nesse mundo. Não, alma sensível, eu não sou cínico, eu fui homem; meu cérebro foi um tablado em que se deram peças de todo gênero, o drama sacro, o austero, o piegas, a comédia louçã, a desgrenhada farsa, os autos, as bufonarias, um pandemônio, alma sensível, uma barafunda de coisas e pessoas, em que podias ver tudo, desde a rosa de Esmirna até a arruda do teu quintal, desde o magnífico leito de Cleópatra até o recanto da praia em que o mendigo tiritava o seu sono. Cruzavam-se nele pensamentos de vária casta e feição. Não havia ali a atmosfera somente da águia e do beija-flor; havia também a da lesma e do sapo. Retira, pois, a expressão, alma sensível, castiga os nervos, limpa os óculos, - que isso às vezes é dos óculos, - e acabemos de uma vez com esta flor da moita.

ASSIS, Machado. **Memórias póstumas de Brás Cubas**

**6 – Assinale os pronomes condizentes com o trecho anterior:**

- A) Nós, minha, conosco.
- B) Tu, nossa, me.
- C) Me, eu, esta.
- D) Aquilo, nossa, que.
- E) TA – Todas as anteriores.

**7 – Todas as línguas, devido a sua utilização cotidiana, sofrem modificações, tanto na forma de falar, quanto na sua ortografia. Marque a palavra condizente, cuja grafia (forma de escrever) sofreu alteração.**

- A) Há.
- B) Cleópatra.
- C) Lêem.
- D) Beija-flor
- E) Cruzavam-se.

**8 – “Alma sensível” se refere:**

- A) Ao narrador.
- B) A Diana.
- C) Esmirna e Cleópatra.
- D) **A um leitor.**
- E) Ao homem.

**Leia o texto para responder as questões 9 e 10.**

BURRICE

Tom Zé

Veja que beleza  
Em diversa cores  
Veja que beleza  
Em vários sabores  
A burrice está na mesa

Veja que beleza!

Refinada, poliglota  
Anda na esquerda  
Anda na direita  
Mas a consagração  
Chegou com o advento  
Da televisão  
Da televisão  
Da televisão

Ensinada nas escolas  
Universidades e principalmente  
Nas academias de louros e letras  
Ela está presente  
Ela está presente

Senhoras e senhores  
Senhoras e senhores  
Se neste momento solene não lhes proponho um feriado comemorativo  
Para a sacrossanta glória da burrice nacional  
É porque todos os dias, graças a Deus  
Do oiapoque ao chuí, dos pampas aos seringais  
Ela já é gloriosamente festejada, gloriosamente festejada

**9 – Segundo a letra da canção, trata-se da burrice:**

- A) Internacional.
- B) Das escolas.
- C) **Da nação – Brasil.**
- D) Do pensamento.
- E) NDA – Nenhuma das anteriores.

**10 – Conforme o texto, a burrice se acentua:**

- A) **Com a televisão.**
- B) Com a beleza.
- C) Com as escolas.
- D) Com a sua festa.
- E) TA – Todas as anteriores.

## **MATEMÁTICA**

**1 – O resultado da operação:  $- 1,578 + 4,08 =$  é:**

- (A) 2,430
- (B) 1,170
- (C) **2,502**
- (D) - 1,170
- (E) - 2,502

**2 – A escrita na forma decimal da fração  $7/16$  é:**

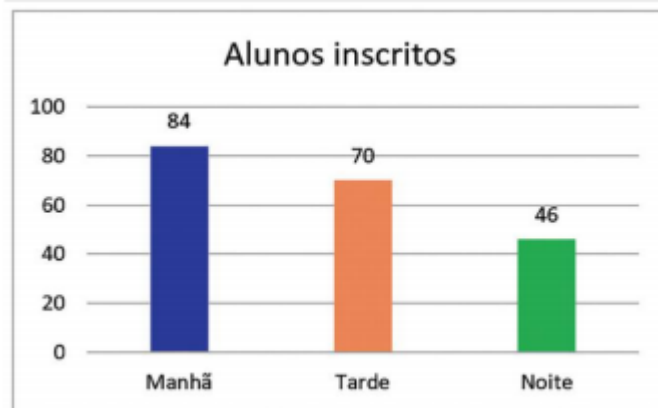
- (A) 0,43
- (B) **0,43750**
- (C) 0,437
- (D) 0,437501
- (E) 0,43751

**3 – Numa pesquisa realizada num condomínio, onde todos votaram, 35% dos moradores apresentavam-se insatisfeitos com a administração do síndico. Não houve voto em branco ou nulo. A porcentagem de pessoas satisfeitas equivale à fração:**

- (A) 13/20
- (B) 35/10
- (C) 7/20
- (D) 20/13
- (E) 20/7

4 – Uma escola enviará 10 estudantes a um estudo orientado sobre a preservação do meio ambiente. O gráfico abaixo apresenta o número de estudantes inscritos. A probabilidade, na forma percentual, do primeiro estudante sorteado ser do período da manhã é:

- (A) 23,8%
- (B) 33,3%
- (C) 42,0%
- (D) 50,0%
- (E) 45%



5 – Uma máquina de xerox tira 300 cópias em um quinto de hora. Em um quarto de hora essa máquina tirará:

- (A) 1500 cópias
- (B) 600 cópias
- (C) 1200 cópias
- (D) 375 cópias
- (E) 3150 cópias

6 – Dividindo 1,26 por 1/3 obtemos:

- (A) 3,8
- (B) 0,42
- (C) 1,56
- (D) 0,423
- (E) 3,78

7 – Podemos afirmar que as raízes da equação:  $2x^2 + 18x + 16 = 0$  são:

$$\Delta = b^2 - 4ac$$

$$x = \frac{-b \pm \sqrt{\Delta}}{2.a}$$

- (A)  $x' = -1$  e  $x'' = 8$
- (B)  $x' = 1$  e  $x'' = -8$
- (C)  $x' = 1$  e  $x'' = 8$
- (D)  $x' = -1$  e  $x'' = -8$
- (E) Nenhuma das alternativas anteriores

8 – Qual o rendimento produzido por um capital de R\$ 1200,00, aplicado a juros simples, na taxa mensal de 1,5%, no prazo de 2 anos e meio?

- (A) R\$ 540,00
- (B) R\$ 4500,00
- (C) R\$ 450,00
- (D) R\$ 5400,00
- (E) R\$ 3540,00

Utilizar a fórmula de Juros Simples

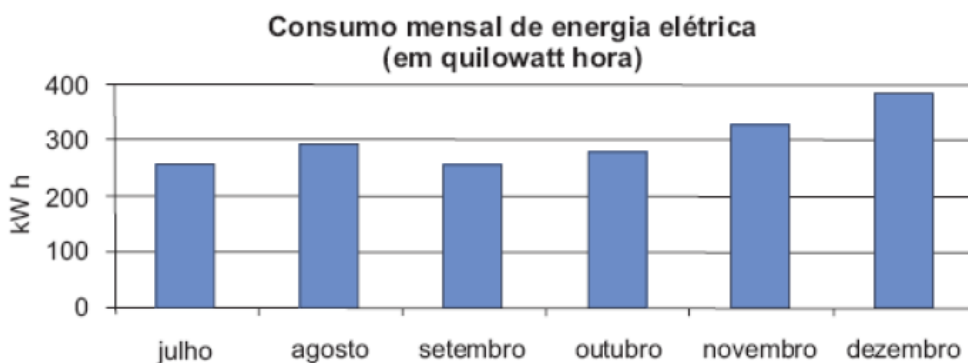
J = juros simples  
C = capital inicial  
i = taxa de juros  
t = tempo da aplicação

$$J = \frac{C \cdot i \cdot t}{100}$$

9 – A altura de Karen é 1,48 metro de Roberto é 157 centímetros. Qual a diferença das alturas em milímetros?

- (A) 9,0 mm
- (B) 90,0 mm
- (C) 9 mm
- (D) 900 mm
- (E) Nenhuma das alternativas anteriores

10 – O gráfico abaixo mostra o consumo de energia elétrica de uma casa durante seis meses de 2021.



**De acordo com o gráfico, os meses em que o consumo foi maior que 300 quilowatts**

**hora foram:**

- (A) julho de setembro
- (B) julho e agosto
- (C) agosto e novembro
- (D) agosto e dezembro
- (E) **novembro e dezembro**

## **INFORMÁTICA**

**1 – Em um computador, correspondem, respectivamente, à placa-mãe, editor de texto, teclado, sistema operacional, navegador de Internet e memória secundária. Assinale a alternativa correta**

- a) **Hardware, software, hardware, software, software, hardware.**
- b) Hardware, software, hardware, hardware, software, software.
- c) Software, hardware, software, hardware, software, hardware.
- d) Software, software, hardware, hardware, software, software.
- e) Hardware, software, hardware, software, software, software.

**2 – Sobre navegadores, verifique as opções e assinale a INCORRETA.**

- a) **Um navegador é um hardware usado para visualizar as páginas da Web.**
- b) O primeiro navegador ou browser foi chamado World Wide Web (W.W.W)
- c) O navegador é comumente chamado de browser e disponibilizado gratuitamente na própria Internet.
- d) Um navegador é um programa que permite a visualização dos hipertextos disponibilizados na Internet.
- e) É possível instalar complementos (plugins ou extensões) para ajudar em seu funcionamento;

**3 – Quanto às principais características técnicas do Microsoft Word, avalie se são verdadeiras (V) ou falsas (F) as afirmativas a seguir.**

- Possibilita a inserção simplificada de gráficos, planilhas e desenhos.
- Não possui Revisor Ortográfico incorporado.
- Contém Mala-Direta, com opção para criação de etiquetas, cartas modelos e envelopes.



Assinale a alternativa que apresenta a sequência correta de cima para baixo.

Alternativas

- a) V - F - F
- b) V - F - V**
- c) F - V - V
- d) V - V - F
- e) F - F - V

**4 – Copiar a formatação de um local e aplicá-la a outro”. Na interface do MS Word, essa é a descrição resumida de qual recurso/função:**

- a) Alterar Estilos;
- b) Marcar Entrada;
- c) Painel de Seleção;
- d) Pincel de Formatação;**
- e) Temas.

**5 – No Excel, para utilizar um intervalo de células, como se fosse uma única célula, deve-se selecionar o intervalo e, na aba Alinhamento de Formatar Células, assinalar a opção:**

- a) Mesclar células**
- b) Alinhamento horizontal
- c) Alinhamento vertical
- d) Reduzir para caber
- e) Retorno automático de texto

## **LEGISLAÇÃO**

**1 – De acordo com o artigo 137, da Constituição Estadual do Estado de São Paulo, a lei assegurará à servidora gestante mudança de função, nos casos em que for recomendado,**

- (A) Com prejuízo de seus vencimentos ou salários e demais vantagens do cargo ou função-atividade;
- (B) Com prejuízo parcial de seus vencimentos ou salários e demais vantagens do cargo ou função-atividade;
- (C) Sem prejuízo de seus vencimentos ou salários e demais vantagens do cargo ou função-atividade;**
- (D) Nenhuma das respostas anteriores.

**2 – Conforme dispõe o inciso IX, do artigo 115, da Constituição Estadual do Estado de São Paulo, a lei reservará percentual dos cargos e empregos públicos**

A) Para os portadores de deficiências, garantindo as adaptações necessárias para a sua participação nos concursos públicos e definirá os critérios de sua admissão;

B) Para os não portadores de deficiências, garantindo as adaptações necessárias para a sua participação nos concursos públicos e definirá os critérios de sua admissão;

C) Para os não portadores de deficiências, não garantindo as adaptações necessárias para a sua participação nos concursos públicos e definirá os critérios de sua admissão;

D) nenhuma das respostas anteriores.

**3 – De acordo com o artigo 241, da Lei 10.261, de 28/10/1968, Estatuto dos Funcionários Públicos Civis do Estado, é dever do funcionário:**

A) Entreter-se, durante as horas de trabalho, em palestras, leituras ou outras atividades estranhas ao serviço;

B) Zelar pela economia do material do Estado e pela conservação do que for confiado à sua guarda ou utilização;

C) Valer-se de sua qualidade de funcionário para desempenhar atividade estranha às funções ou para lograr, direta ou indiretamente, qualquer proveito;

D) Nenhuma das respostas anteriores

**4 – De acordo com o artigo 264, da Lei 10.261, de 28/10/1968, Estatuto dos Funcionários Públicos Civis do Estado, a autoridade que, por qualquer meio, tiver conhecimento de irregularidade praticada por funcionário**

A) Não adotará providências visando à sua imediata apuração, sem prejuízo das medidas urgentes que o interesse da Administração exigir, podendo submeter o caso às práticas autocompositivas ou propor celebração de termo de ajustamento de conduta. (NR)

B) Adotará providências visando à sua imediata apuração, sem prejuízo das medidas urgentes que o interesse da Administração exigir, podendo submeter o caso às práticas autocompositivas ou propor celebração de termo de ajustamento de conduta. (NR)

C) Poderá adotar providências visando à sua imediata apuração, sem prejuízo das medidas urgentes que o interesse da Administração exigir, podendo

submeter o caso às práticas autocompositivas ou propor celebração de termo de ajustamento de conduta. (NR)

D) Nenhuma das respostas anteriores

**5 – De acordo com o artigo 70, da Lei , que dispõe sobre o ECA - Estatuto da Criança e do Adolescente e dá outras providências:**

A) É dever da Equipe Gestora da Unidade Escolar prevenir a ocorrência de ameaça ou violação dos direitos da criança e do adolescente;

B) É dever da Equipe Gestora e do Corpo Docente da Unidade Escolar prevenir a ocorrência de ameaça ou violação dos direitos da criança e do adolescente;

C) É dever de todos prevenir a ocorrência de ameaça ou violação dos direitos da criança e do adolescente;

D) Nenhuma das respostas anteriores