

PROVA A – LÍNGUA PORTUGUESA

01- Há correlação entre os termos destacados em todas as opções, EXCETO em:

- a) Ele era um **indivíduo** que nem estava **satisfeito**.
- b) Aquele **caminho** antes **estreito**, estava com muita modificação.
- c) **As mulheres organizavam festas muito satisfeitas**.
- d) **Crianças**, que são reprimidas pelos pais, ficam **revoltadas**.
- e) **Todos** elaboravam as pautas **concentrados** nos resultados.

02- Com o novo acordo ortográfico, apenas uma das palavras abaixo manteve o acento circunflexo. Marque a opção correta:

- a) Vôo
- b) Crêem
- c) Enjôo
- d) **Pôde**
- e) Lêem

03.-No Brasil colonial, os portugueses procuravam ocupar e explorar os territórios descobertos, nos quais viviam índios, que eles queriam cristianizar e usar como força de trabalho. Os missionários aprendiam os idiomas dos nativos para catequizá-los nas suas próprias línguas. Ao longo do tempo, as línguas se influenciaram. O resultado desse processo foi a formação de uma *língua geral*, desdobrada em duas variedades: o *abanheenga*, ao sul, e o *nheengatu*, ao norte. Quase todos se comunicavam na língua geral, sendo poucos aqueles que falavam apenas o português.

De acordo com o texto, a língua geral formou-se e consolidou-se no contexto histórico do Brasil-Colônia. Portanto, a formação desse idioma e suas variedades foi condicionada

- a) pelo interesse dos indígenas em aprender a religião dos portugueses.
- b) pela percepção dos indígenas de que as suas línguas precisavam aperfeiçoar-se.
- c) pelo interesse unilateral dos indígenas em aprender uma nova língua com os portugueses.
- d) pela distribuição espacial das línguas indígenas, que era anterior à chegada dos portugueses.
- e) **pela necessidade de as duas tribos falarem a mesma língua.**

04- Trajava à moda antiga, uma saia, uma blusinha e sorria timidamente para os rapazes, abrindo muito os olhos onde se via um brilho de malícia.

- a) azul-marinho - verde-clara - castanho
- b) **azul-marinho - verde-claro - castanhos**
- c) azul-marinha - verde-claro - castanhos
- d) azul-marinho - verde-clara – castanhos
- e) azul-marinha – verde-claro - castanho

05 - Assinale a alternativa correta sobre a classificação das palavras destacadas.

- a) Não gostava de torta, **nem** de bolo. (interjeição)
- b) **Um dia iremos nos encontrar.** (artigo)
- c) Norma está cada dia mais **saudável**. (substantivo)
- d) De manhã tomei café **com** leite. (conjunção)
- e) Comprei **meu** computador um ano atrás. (preposição)

06 - Complete com os pronomes e indique a opção correta, dentre as indicadas abaixo:

- 1. De repente, deu-lhe um livro para _____ ler.
- 2. De repente, deu um livro para _____ .
- 3. Nada mais há entre _____ e você.
- 4. Sempre houve entendimentos entre _____ e ti.
- 5. José, espere vou _____ .

- a) ele, mim, eu, eu, consigo
- b) ela, eu, mim, eu, contigo
- c) **ela, mim, mim, mim, com você**
- d) ela, mim, eu, eu, consigo
- e) ela, mim, eu, mim, contigo.

07- Observe o quadrinho e responda:



XAVIER, C. Disponível em: <http://www.releituras.com>. Acesso em: 03 set. 2010.

Considerando a relação entre os usos oral e escrito da língua, tratada no texto, verifica-se que a escrita

- a) modifica as ideias e intenções daqueles que tiveram seus textos registrados por outros.
- b) **permite, com mais facilidade, a propagação e a permanência de ideias ao longo do tempo.**
- c) figura como um modo comunicativo superior ao da oralidade.
- d) leva as pessoas a desacreditarem nos fatos narrados por meio da oralidade.
- e) faz com que as pessoas distorçam o que foi dito oralmente.

08- Leia a charge a seguir:



(Chargista Duke. <https://www.otempo.com.br>)

A charge mostra que

- a) a novela retrata com fidelidade o que é a realidade.
- b) a realidade é muito menos cativante que a novela.
- c) a realidade transborda amenidades como a novela.
- d) a novela retrata com mais intensidade a realidade.
- e) a realidade e a novela se equivalem na vida humana.

09- Na charge apresentada a seguir, o personagem encontra-se impedido de ver, ouvir e falar, enquanto permanece diante de um computador.



A partir da observância do texto não verbal, subentende-se uma crítica social relacionada:

- a) ao negacionismo provocado pelos usuários das ferramentas tecnológicas.
- b) à independência dos usuários às ferramentas tecnológicas.
- c) à imposição de censuras políticas pelos usuários nas ferramentas tecnológicas.
- d) à má qualidade das ferramentas tecnológicas.
- e) à vulnerabilidade dos usuários às possibilidades das ferramentas tecnológicas.

10- Leia a charge para responder à questão abaixo:



(www.pinterest.com. Acessado em 17.10.2019)

As atitudes do rapaz e da moça podem ser interpretadas, respectivamente, como:

- a) negligência e desatenção.
- b) apatia e antipatia.
- c) prepotência e arrogância.
- d) indiferença e impaciência.
- e) tristeza e tédio.

PROVA A - MATEMÁTICA

11-Uma doceira fez 1200 docinhos para uma festa de aniversário. Desse total $\frac{1}{3}$ são brigadeiros, $\frac{1}{4}$ beijinhos, $\frac{1}{6}$ cajuzinhos e o restante bicho de pé. O número de doces de bicho de pé em relação ao total de doces da festa, corresponde em fração:

a) $\frac{1}{4}$

b) $\frac{3}{4}$

c) $\frac{3}{8}$

d) $\frac{5}{12}$

e) $\frac{6}{13}$

12-Uma pessoa comprou vários detergentes de tipo, marcas e valores conforme mostra a tabela

Tipo	Marca	Valor Unitário
Neutro	Limpa Clean	R\$ 2,20
Coco	Lino Limpo	R\$ 2,80
Glicerina	Coque Limpo	R\$ 2,30

Sabendo que o valor total pago foi de 25,20 e a pessoa comprou 3 Limpa Clean, 5 Lino Limpo e X Coque Limpo, o total de detergentes Coque Limpo comprado foi:

- a)5
- b)4
- c)3
- d)2
- e)1

13-Em uma escola com 600 alunos foi realizada uma excursão para 3 lugares diferentes. Todos os alunos participaram e foi dividida da seguinte maneira: 25% foram para o Parque das Flores, 30% do restante para o Museu da Criatividade e X alunos para o Parque da Cultura Popular. Qual a quantidade de alunos que foram para o Parque da Cultura Popular:

- a)150
- b)135
- c)315
- d)513
- e)351

14-Uma determinada quantia foi aplicada a juro simples, com taxa de 2% ao mês, durante 6 meses. Sabendo que nesse período rendeu 60,00 de juros, a quantia aplicada foi:

- a)100,00
- b)200,00
- c)300,00
- d)400,00
- e)500,00

15-A merendeira prepara uma mistura de leite em pó com achocolatado em pó, na seguinte situação: 200 gr de leite em pó para 40 gr de achocolatado em pó. Sabendo que em uma embalagem vem 2,5 kg de leite em pó, então serão necessários quantos quilos de achocolatado em pó para preparar essa mistura:

- a)500
- b)0,5
- c)0,05
- d)5
- e)50

16-Em uma urna contém 50 bolas, numeradas de 1 a 50. Qual a probabilidade de a bola sorteada ser um número maior que 38.

- a)12%
- b)25%
- c)24%
- d)38%
- e)40%

17-A equação $x^2 + x - 56 = 0$ tem duas raízes reais. Subtraindo-se a menor da maior obtém se:

- a)15
- b)1
- c)-1
- d)-15
- e)8






18-Um bloco reto retangular de base quadrada, com área da base igual a 25 cm^2 e altura de 12 cm tem a capacidade em mililitros de:

- a)300
- b)60
- c)120
- d)30
- e)600

19-Considere que os termos da sequência seguinte foram sucessivamente obtidos segundo determinado padrão:



O 246º termo é:

- a) 
- b) 
- c) 
- d) 
- e) 

20- Angélica, Brenda, Camila, Diana e Eduarda são amigas e marcaram de se encontrarem no cinema. Camila chegou depois de Diana que chegou depois de Brenda. Sabe-se que Angélica teve um acidente no caminho e foi a última a chegar e Eduarda chegou antes que todas. Quem foi a terceira amiga a chegar:

- a) Angélica
- b) Brenda
- c) Camila
- d) Diana
- e) Eduarda

PROVA A – TECNOLOGIA

21-O sistema operacional é uma coleção de programas que:

- I- Inicializa o hardware do computador
- II- Fornece rotinas básicas para controle de dispositivos
- III- Fornece gerência, escalonamento e interação de tarefas
- IV- Mantém a integridade de sistema
- V- Mantém o sistema ligado

Das situações mencionadas quais são verdadeiras:

- a) Todas são verdadeiras
- b) I e II
- c) I, II e III
- d) I, II, III e IV
- e) II, III, IV e V

22-De acordo com a planilha elaborada no Excel, para se obter o resultado de soma dos 3 produtos na B4, qual será a fórmula necessária:

	A	B	C	D
1	Produto A	2,5		
2	Produto B	3,5		
3	Produto C	4,56		
4	Total			
5				
6				

- a) =soma(B1:B3)
- b) =soma(B1:B2)
- c) =mais(B1:B3)
- d) =mais(B1:B2)
- e) =soma(B1:B3)

23- Disponível nas versões web e mobile dos navegadores de internet, o modo de navegação anônima nada mais é do que um mecanismo que permite navegar pela web sem armazenar dados como senhas, cookies e histórico de navegação. Também serve como uma maneira para se livrar de anúncios aparecendo em todos os sites. O modo anônimo foi criado como uma camada extra de segurança que visa proteger os dados do usuário, uma vez que, ao encerrar uma janela ou aba nessa opção, toda a atividade feita pelo navegador é apagada. Com isso, as ações do usuário enquanto navega na internet têm menos chances de serem rastreadas por terceiros.

Fonte: <https://canaltech.com.br/navegadores/navegacao-anonima-o-que-e-e-como-funciona/>

Toda vez que você usar o modo anônimo, uma nova aba será aberta no navegador. Para facilitar a identificação, os browsers costumam aplicar uma cor diferente do tom padrão na aba privada (geralmente em tons _____)

- a) Azul
- b) Branco
- c) Cinza
- d) Dourado
- e) Escarlate

24- O que é E-mail?

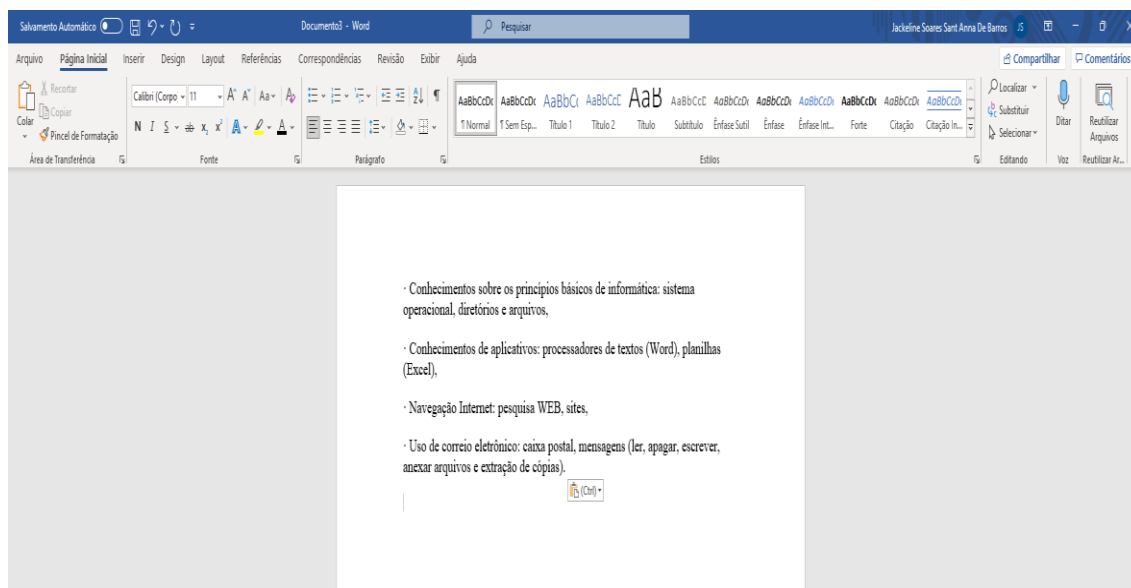
E-mail é o correio eletrônico. Ele é o envio e recebimento de mensagens datilografadas de uma tela para outra. E-mail é geralmente intermediado por um serviço de webmail (por exemplo, o Gmail ou Yahoo! Mail), ou um software instalado (por exemplo, o Microsoft Outlook). Mensagens de texto, mensagens instantâneas, chat, videomail (v-mail) e outros são exemplos de “derivados” do e-mail.

Fonte: <https://www.palpitedigital.com/queemail-que-sao-outras-coisas-internet/>

O que é caixa de entrada:

- a) **É onde os usuários recebem suas mensagens e elas ficam nesse local até serem arquivadas, lidas ou apagadas.**
- b) Tecnologia que permite compor, enviar e receber mensagens de texto através de uma rede de computadores.
- c) Onde ficam os e-mails que o usuário já enviou.
- d) Onde se anexa os arquivos necessários.
- e) O maior veículo de propagação de vírus

25-De acordo com a imagem a seguir:



Considerando a edição brasileira, para salvar o documento por atalho é necessário apertar quais teclas:

- a) Ctrl + A
- b) **Ctrl + B**
- c) Ctrl + G
- d) Ctrl + Z
- e) Ctrl + S

PROVA A - CONHECIMENTOS ESPECÍFICOS

26. Segundo o Estatuto dos Funcionários Públicos Civis do Estado de São Paulo, é correto dizer que:

- a) Quadro é o conjunto de classes da mesma natureza de trabalho, escalonadas segundo o nível de complexidade e de responsabilidade.
- b) O exercício é o ato que investe o cidadão em cargo público.
- c) A posse deverá verificar-se no prazo de 60 dias, contados da data da publicação do ato de provimento do cargo, no órgão oficial, podendo ser prorrogado por mais 60 dias, a requerimento do interessado.
- d) **A requerimento do interessado e a juízo da autoridade competente, os prazos previstos para o exercício do cargo poderão ser prorrogados por 30 dias.**
- e) Acesso é a elevação do funcionário a função de maior grau de responsabilidade, dentro do respectivo quadro, ou em outros do serviço público.

27. Segundo o disposto na Lei n.º 10.261, de 28.10.68 – Estatuto dos Funcionários Públicos Civis do Estado de São Paulo, serão considerados de efetivo exercício, para todos os efeitos legais, os dias em que o funcionário estiver afastado do serviço em virtude de, dentre outros:

- a) **falecimento do cônjuge, filhos, pais e irmãos, até 8 (oito) dias.**
- b) falecimento dos avós, netos, sogros, padrasto ou madrastra, até 6 (seis) dias.
- c) trânsito, em decorrência de mudança de sede de exercício, desde que não exceda o prazo de 20 (vinte) dias.
- d) tratamento de saúde, de si próprio ou de familiares, mediante apresentação de atestado médico.

e) casamento, até 6 (seis) dias

28. De acordo com o artigo 111 da Constituição de 05/10/1989, a administração pública obedecerá à:

- a) legalidade, impessoalidade, moralidade, publicidade, razoabilidade, finalidade, motivação
- b) legalidade, impessoalidade, moralidade, publicidade, razoabilidade, finalidade, motivação, interesse público e eficiência**
- c) legalidade, impessoalidade, moralidade, publicidade, razoabilidade, finalidade, motivação e eficiência
- d) legalidade, impessoalidade, moralidade, publicidade, razoabilidade e eficiência
- e) legalidade, impessoalidade, moralidade, publicidade, razoabilidade, finalidade interesse público

29. Segundo o ECA, a criança e o adolescente têm direito ao respeito. Este abrange, entre outros aspectos:

- a) a possibilidade de ir e vir sem restrições.
- b) a preservação dos espaços e dos objetos pessoais.**
- c) a participação na vida política e comunitária ilimitadamente.
- d) a isenção de qualquer responsabilidade por seus atos.
- e) o fornecimento gratuito de uniforme escolar.

30. De acordo com a Lei Complementar nº 1.144, DE 11 de Julho 2011, artigo 4º:

Caberá aos integrantes das classes do Quadro de Apoio Escolar as seguintes atribuições:

- I - desenvolver atividades no âmbito da organização escolar, relacionadas com a execução de ações envolvendo a secretaria escolar e o atendimento a alunos e à comunidade escolar em geral, de acordo com as necessidades da unidade escolar;
- II - executar tarefas relacionadas à limpeza, manutenção e conservação da unidade escolar, e ao controle e preparo da merenda escolar.

Relacione as atribuições às funções, respectivamente:

- a) I agente de serviço escolares; II agente de organização escolar
- b) I agente de organização escolar; II agente de serviços escolares**
- c) I agente de serviço escolares
- d) II agente de organização escolar
- e) II agente de serviço escolar