



GOVERNO DO ESTADO DE SÃO PAULO
SECRETARIA DE ESTADO DA EDUCAÇÃO
DIRETORIA DE ENSINO – REGIÃO SANTOS

PROCESSO SELETIVO

AGENTE DE ORGANIZAÇÃO ESCOLAR – AOE 2022

Você recebeu sua folha de respostas e este caderno contendo 30 questões objetivas.

Preencha com seus dados na capa deste caderno e na folha de respostas.

Quando for permitido abrir o caderno, verifique se está completo ou se apresenta imperfeições. Caso haja algum problema, informe ao fiscal da sala.

Leia cuidadosamente todas as questões e escolha, **apenas**, uma resposta que você considera correta.

Preencha por completo a resposta escolhida de acordo com o exemplo:

Marque, na folha de respostas, com caneta de tinta azul ou preta, a letra correspondente à alternativa que você escolheu.

A duração da prova é de 2 horas, já incluído o tempo para o preenchimento da folha de respostas.

Só será permitida a saída definitiva da sala e do prédio após transcorridos 1 (uma) hora do tempo de duração da prova.

Ao sair, você entregará ao fiscal a folha de respostas e este caderno, podendo levar apenas o rascunho de gabarito, localizado em sua carteira, para futura conferência.

Até que você saia do prédio, todas as proibições e orientações continuam válidas.

Aguarde a ordem do fiscal para abrir este caderno de questões

Nome do candidato

RG

CPF



GOVERNO DO ESTADO DE SÃO PAULO
SECRETARIA DE ESTADO DA EDUCAÇÃO
DIRETORIA DE ENSINO – REGIÃO SANTOS

Língua Portuguesa

Um homem de consciência

Chamava-se João Teodoro, só. O mais pacato e modesto dos homens. Honestíssimo e lealíssimo, com um defeito apenas: não dar o mínimo valor a si próprio. Para João Teodoro, a coisa de menos importância no mundo era João Teodoro.

Nunca fora nada na vida, nem admitia a hipótese de vir a ser alguma coisa. E por muito tempo não quis nem sequer o que todos ali queriam: mudar-se para uma terra melhor.

Mas João Teodoro acompanhava com aperto de coração o depercimento visível de sua Itaoca.

- Isto já foi muito melhor, dizia consigo. Já teve três médicos bem bons - agora só um e bem ruinzote. Já teve seis advogados e hoje mal dá serviço para um rábula ordinário como o Tenório. Nem circo de cavalinhos bate mais por aqui. A gente que presta se muda. Fica o restolho. Decididamente, a minha Itaoca está se acabando...

João Teodoro entrou a incubar a idéia de também mudar-se, mas para isso necessitava dum fato qualquer que o convencesse de maneira absoluta de que Itaoca não tinha mesmo conserto ou arranjo possível.

É isso, deliberou lá por dentro. Quando eu verificar que tudo está perdido, que Itaoca não vale mais nada de nada de nada, então arrumo a trouxa e boto-me fora daqui.

Um dia aconteceu a grande novidade: a nomeação de João Teodoro para delegado. Nosso homem recebeu a notícia como se fosse uma porretada no crânio. Delegado, ele! Ele que não era nada, nunca fora nada, não queria ser nada, não se julgava capaz de nada...

Ser delegado numa cidadezinha daquelas é coisa seriíssima. Não há cargo mais importante. É o homem que prende os outros, que solta, que manda dar sovas, que vai à capital falar com o governo. Uma coisa colossal ser delegado - e estava ele, João Teodoro, de-le-ga-do de Itaoca!...

João Teodoro caiu em meditação profunda. Passou a noite em claro, pensando e arrumando as malas. Pela madrugada botou-as num burro, montou no seu cavalo magro e partiu.

Antes de deixar a cidade foi visto por um amigo madrugador.

- Que é isso, João? Para onde se atira tão cedo, assim de armas e bagagens?

- Vou-me embora, respondeu o retirante. Verifiquei que Itaoca chegou mesmo ao fim.

- Mas, como? Agora que você está delegado?

- Justamente por isso. Terra em que João Teodoro chega a delegado, eu não moro. Adeus.

E sumiu.

Monteiro Lobato

1- Conforme o texto, que conceito João Teodoro fazia de si mesmo?

- (A) Ele se julgava o homem mais importante do mundo.
- (B) Sempre achou que viria a ser alguém muito importante na vida.
- (C) Ele se julgava a coisa de menos importância no mundo.
- (D) Nenhuma das anteriores.

2- Assinale a alternativa correta:

- (A) João Teodoro pode ser considerado um bom cidadão porque era interesseiro e corrupto como muitos políticos.
- (B) João Teodoro pode ser considerado um bom cidadão porque era honesto e leal.
- (C) João Teodoro pode ser considerado um bom cidadão porque tinha uma atitude muito passiva com relação a sua cidade.
- (D) Nenhuma das anteriores.

3- Escolha a alternativa correta quanto à regência verbal:

- (A) Prefiro morrer a trair os fiéis amigos.
- (B) Prefiro morrer do que trair os fiéis amigos.
- (C) Prefiro mais morrer do que trair os fiéis amigos.
- (D) Nenhum das anteriores.

4- Numere a 2ª coluna de acordo com os tempos grifados, indicados na 1ª coluna:

1ª Coluna

- (1) Pretérito Imperfeito do Indicativo
- (2) Imperativo Afirmativo
- (3) Pretérito Perfeito do Indicativo
- (4) Pretérito Imperfeito do Subjuntivo
- (5) Futuro do Subjuntivo

2ª Coluna

- () **Crê** em tua capacidade, jovem!
- () "**Amou** daquela vez como se fosse a última!
- () "A noiva do "cowboy" **era** você"...
- () Ah, se **fôssemos** iguais a você!
- () Quando vós **puderdes**, iremos aí!



GOVERNO DO ESTADO DE SÃO PAULO
SECRETARIA DE ESTADO DA EDUCAÇÃO
DIRETORIA DE ENSINO – REGIÃO SANTOS

Indique a sequência numérica obtida:

- (A) 1- 2- 3- 4- 5
- (B) 2- 3- 4- 5- 1
- (C) 5- 3- 1- 2- 4
- (D) 2- 3- 1- 4- 5

5- Assinale a opção em que houve **erro** no emprego do pronome pessoal em relação ao uso culto da língua.

- (A) Será que você pode comprar para eu?
- (B) Para mim, a leitura está fácil.
- (C) Preciso dos ingredientes para eu fazer o bolo
- (D) Há muito trabalho para eu fazer.

Leia o poema e responda às questões 6 e 7.

O Anel de vidro

Aquele pequenino anel que tu me deste,
- Ai de mim – era vidro e logo se quebrou...
Assim também o eterno amor que prometeste,
- Eterno! Era bem pouco e cedo se acabou.

Frágil penhor que foi do amor que me tiveste,
Símbolo da afeição que o tempo aniquilou -
Aquele pequenino anel que tu me deste,
- Ai de mim – era vidro e logo se quebrou.

Não me turbou, porém, o despeito que investe
Gritando maldições contra aquilo que amou.
De ti conservo na alma a saudade celeste...
Como também guardei o pó que me ficou
Daquele pequenino anel que tu me deste...
BANDEIRA, Manuel. **Estrela da vida inteira**. 5. ed.
Rio de Janeiro: Nova Fronteira, 2009. p. 74.

6- Nos versos: “Aquele pequenino anel que tu me deste” (l. 1 e l.7) e “Daquele pequenino anel que tu me deste...” (l. 13), o emprego do adjetivo “pequenino”:

- (A) exprime a ternura do eu lírico pelo anel de vidro.
- (B) acentua o caráter carinhoso que perpassa o poema.
- (C) intensifica a afeição do eu lírico pela amada ausente.
- (D) expressa o aspecto irônico que caracteriza o poema.

7- No poema, o emprego de travessões e reticências reforça a ideia de:

- (A) que o amor, apesar de grande e eterno, só aconteceu na infância do eu lírico.
- (B) pausa no fluxo da imaginação para exprimir, de forma espontânea, certas lembranças do passado.

(C) que a saudade ficou na memória do passado e vive na alegria do presente.

(D) interrupção do sentimento nostálgico do eu lírico, para expressar um amor reprimido no passado.

8- Assinale a alternativa em que há grau do substantivo (aumentativo ou diminutivo) usado como afetividade.

- (A) Meu filho, não brinque com essa **gentalha!**
- (B) **Filhinho**, você não está com fome?
- (C) Você quer trinta reais por esse **livreco?**
- (D) Você o acha bonito? Com aquele **narigão** achatado?

9- Assinale a alternativa que contém a **acentuação gráfica correta**:

- (A) No cerebro fervilhavam-lhe pensamentos que ele anotava a lapis no papel que trazia no bolso da calça.
- (B) Atrás daquele aspecto austero, escondia-se um observador sutil e irônico.
- (C) Gostaríamos muito de assistir ao filme que esta em cartaz.
- (D) Chegamos ao aeroporto e... surpresa... o vôo foi cancelado!

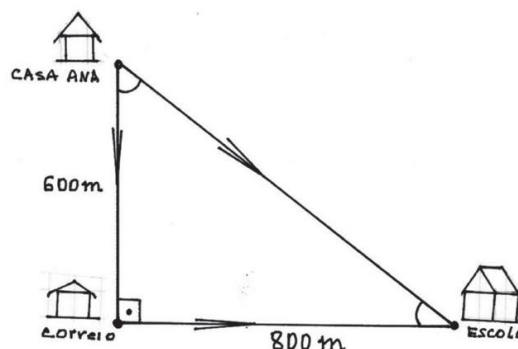
10- Assinale a alternativa que completa corretamente a oração:

Chegou-se ___ conclusão de que a escola também é importante devido ___ merenda escolar que é distribuída gratuitamente ___ todas as crianças.

- (A) a – à – a
- (B) à – à – à
- (C) a – à – à
- (D) à – à – a

MATEMÁTICA

11- Hélio e Ana partiram da casa dela com destino à escola. Ele foi direto de casa para a escola e ela passou pelo correio e depois seguiu para escola, como mostra a figura a seguir:





GOVERNO DO ESTADO DE SÃO PAULO
SECRETARIA DE ESTADO DA EDUCAÇÃO
DIRETORIA DE ENSINO – REGIÃO SANTOS

De acordo com os dados apresentados, a distância percorrida por Ana foi maior que a percorrida por Hélio em:

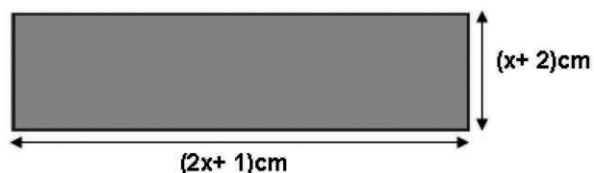
- (A) 200 m
- (B) 400 m
- (C) 600 m
- (D) 800 m

12- Duas empresas de telefonia celular, a “ALFA” e a “BETA”, oferecem planos pelo mesmo valor. Os minutos de ligação para celulares da mesma operadora são ilimitados em ambas as empresas. O pacote de internet dessas duas empresas juntas totaliza 10GB, porém o pacote da empresa “ALFA” supera em 2GB o pacote da empresa “BETA”.

Quantos GB possui o plano da empresa “BETA”?

- (A) 4
- (B) 6
- (C) 7
- (D) 8

13- Observe o retângulo abaixo:



O polinômio na forma reduzida que representa a área do retângulo é:

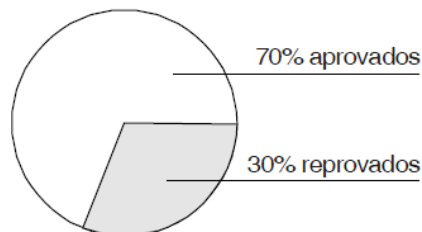
- (A) $(2x^2 + 2) \text{ cm}^2$
- (B) $(3x^2 + 3) \text{ cm}^2$
- (C) $(2x^2 + 5x + 2) \text{ cm}^2$
- (D) $(2x^2 + 6x + 3) \text{ cm}^2$

14- Suponha que um capital seja aplicado a juros simples, à taxa mensal de 8%. A fim de que seja possível resgatar-se o triplo da quantia aplicada, tal capital deverá ficar aplicado por um período mínimo de:

- (A) 2 anos e 1 mês
- (B) 2 anos
- (C) 1 ano e 2 meses
- (D) 1 ano e 3 meses

15- O gráfico abaixo ilustra o resultado de uma pesquisa realizada sobre a aprovação em

Matemática do Ensino Médio 3ª série em que 60 000 estudantes fizeram a prova.



Se os homens representam 50% entre os aprovados e 80% entre os reprovados, então o número de estudantes mulheres era...

- (A) mais de 28 000
- (B) entre 25 000 e 30 000
- (C) 24 800
- (D) menos de 24 800

16- Na tabela seguinte foram registradas as quantidades de livros vendidos por uma livraria nos três primeiros meses deste ano, e também os livros vendidos na primeira quinzena de abril.

	Janeiro	Fevereiro	Março	Abril
Quantidade de livros vendidos	220	280	310	100

Para que a média de livros vendidos nos três primeiros meses seja mantida durante o mês de abril, quantos livros ainda precisam ser vendidos na 2ª quinzena deste mês?

- (A) 110
- (B) 170
- (C) 210
- (D) 250

17- Quando Guilherme escolhia o sapato e a camisa que queria comprar, a vendedora da loja disse a ele:

- Se você comprar as duas peças e pagar à vista, terá desconto de 5% no preço do sapato e de 4% no preço da camisa.

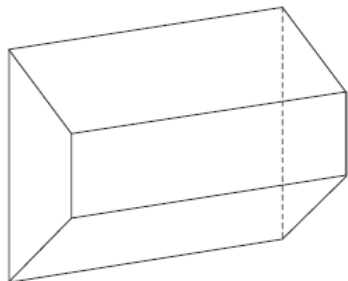
Como o sapato custa R\$ 80,00 e a camisa R\$ 70,00, quanto Guilherme economizará no caso de resolver pagar sua compra à vista?

- (A) R\$ 5,70
- (B) R\$ 6,80
- (C) R\$ 7,50
- (D) R\$ 9,00



GOVERNO DO ESTADO DE SÃO PAULO
SECRETARIA DE ESTADO DA EDUCAÇÃO
DIRETORIA DE ENSINO – REGIÃO SANTOS

18- A soma da quantidade de vértices e de faces do poliedro representado na figura abaixo é igual a:



- (A) 12
- (B) 13
- (C) 14
- (D) 15

19- Um terreno retangular de 28 m de comprimento por 8 m de largura deve ser totalmente cercado e forrado com grama. Para isso, será preciso, respectivamente, uma cerca que meça, em metros, e uma superfície de grama, em m^2

- (A) 36 e 112
- (B) 36 e 224
- (C) 72 e 224
- (D) 72 e 448

20- Amadeu comprou um *notebook* e vai pagá-lo em seis prestações crescentes de modo que a primeira prestação é de R\$ 120,00, e cada uma das seguintes é o dobro da anterior. As prestações que Amadeu vai pagar, constituem os termos de uma progressão:

- (A) geométrica de razão 4.
- (B) aritmética de razão 4.
- (C) geométrica de razão 2.
- (D) aritmética de razão 2.

CONHECIMENTOS ESPECÍFICOS

21- A administração é obrigada a fornecer a qualquer cidadão, para a defesa de seus direitos e esclarecimentos de situações de seu interesse pessoal, certidão de atos, contratos, decisões ou pareceres, sob pena de responsabilidade da autoridade ou servidor que negar ou retardar a sua expedição. É correto afirmar que o prazo máximo para atendimento, de acordo com o artigo 114 da Constituição Estadual de São Paulo são de:

- (A) 5 (cinco) dias.
- (B) 5 (cinco) dias úteis.
- (C) 10 (dez) dias úteis
- (D) 3 (três) dias

22- De acordo com o artigo 5º da Constituição Estadual de São Paulo, são Poderes do Estado, independentes e harmônicos entre si:

- (A) Legislativo e Judiciário
- (B) Câmara e Executivo
- (C) Legislativo, Executivo e Judiciário
- (D) Legislativo e Executivo

23- De acordo com o artigo 37 da Constituição Estadual de São Paulo, o Poder Executivo é exercido pelo Governador do Estado, eleito para um mandato de:

- (A) Cinco anos
- (B) Quatro anos
- (C) Três anos
- (D) Seis anos

24- De acordo com o artigo 2º do Decreto nº 60.428 de 8 de maio de 2014, em seu anexo, É dever do agente público ter sempre em vista o interesse público e o bem comum, observando, em sua função ou fora dela:

- (A) a dignidade, o decoro, o zelo e os princípios morais, evitando qualquer conflito de interesses.
- (B) a dignidade e os princípios morais, evitando qualquer conflito de interesses.
- (C) o decoro, o zelo e os princípios morais, evitando qualquer conflito de interesses.
- (D) a dignidade, o decoro e os princípios morais, evitando qualquer conflito de interesses.

25- De acordo com o artigo 280 da Constituição Estadual de São Paulo, É assegurado, na forma da lei, aos portadores de deficiências e aos idosos, acesso adequado aos:

- (A) edifícios de uso público, bem como aos veículos de transporte coletivo urbano e oficiais.
- (B) logradouros e edifícios de uso público e privado, bem como aos veículos de transporte privado.
- (C) logradouros e veículos de transporte coletivo urbano.
- (D) logradouros e edifícios de uso público, bem como aos veículos de transporte coletivo urbano.



GOVERNO DO ESTADO DE SÃO PAULO
SECRETARIA DE ESTADO DA EDUCAÇÃO
DIRETORIA DE ENSINO – REGIÃO SANTOS

NOÇÕES DE INFORMÁTICA

26- Considere as diferenças entre software, hardware e sistemas operacionais. Pode-se dizer que é um sistema operacional:

- (A) Internet Explorer, Chrome, Mozilla Firefox.
- (B) Documento de texto do Word.
- (C) O Monitor que mostra as informações na tela.
- (D) Windows - conjunto de programas.

27- Nos modernos sistemas operacionais, o nome usado para o elemento gráfico que indica a posição do mouse na tela é:


- (A) Barra de rolagem.
- (B) Botão.
- (C) Barra de progresso.
- (D) Cursor.

28- Ana é servidora estadual. Na área de trabalho do sistema Windows ela salvou um arquivo. Acidentalmente, após selecionar esse arquivo, ela pressionou as teclas SHIFT+DEL e depois respondeu “Sim” à pergunta que surgiu na tela, pedindo a confirmação da operação. Essa operação foi:

- (A) Excluir definitivamente esse arquivo.
- (B) Enviar o arquivo para a lixeira.
- (C) Exclui o arquivo da área de trabalho e o envia para a pasta de transição.
- (D) Todas as alternativas são falsas.

29- Em relação à janela, da direita para a esquerda, os três botões servem, respectivamente:

- (A) Maximizar, minimizar e fechar.
- (B) Fechar, maximizar e minimizar.
- (C) Minimizar, maximizar e fechar.
- (D) Fechar, minimizar e maximizar.

- 30- “Pressionar as teclas Windows  + sinal de adição (+) no computador.” Tal procedimento
- (A) denomina-se aplicativo google+.
 - (B) se refere ao atalho no teclado para chamar a Lupa do *Windows*.
 - (C) trata-se do comando válido para somar rapidamente uma conta na calculadora do *Windows*.
 - (D) se refere ao aumento do volume da música ou vídeo (somente no *Windows Media Player*).