

AVALIAÇÃO DIAGNÓSTICA DE ENTRADA

Língua Portuguesa



3º ano do Ensino Fundamental Turma _____

Fevereiro de 2017 Data ____ / ____ / ____

Escola _____

Aluno _____

QUESTÃO 1

ESCRITA DE CANTIGA CONHECIDA

QUESTÃO 2

REESCRITA DE UM TRECHO DE UM CONTO

AGORA CONTINUE A ESCREVER A HISTÓRIA "O PRÍNCIPE RÃ" A PARTIR DESTE PONTO:

NO DIA SEGUINTE, QUANDO O REI, A RAINHA E AS FILHAS ESTAVAM JANTANDO, OUVIRAM UM BARULHO ESTRANHO: PLAFT!... PLAFT!... ALGUÉM ESTAVA SUBINDO A ESCADARIA DE MÁRMORE DO PALÁCIO... O BARULHO CESSOU BEM EM FRENTE À PORTA, E ALGUÉM CHAMOU:

— ABRA A PORTA, FILHA MAIS NOVA DO REI!

A PRINCESA FOI ATENDER E, QUANDO DEU COM A RÃ, TORNOU A FECHAR A PORTA BEM DEPRESSA E VOLTOU PARA A MESA. O REI REPAROU QUE ELA ESTAVA VERMELHINHA E APAVORADA.

— O QUE FOI, FILHA? AÍ FORA ESTÁ ALGUM GIGANTE, QUERENDO PEGAR VOCÊ?

— NÃO, PAIZINHO... É UMA RÃ HORROROSA.

— É O QUE UMA RÃ PODE QUERER COM VOCÊ?

— AI, PAIZINHO! ONTEM, QUANDO EU BRINCAVA COM A MINHA BOLA DE OURO PERTO DA FONTE, ELA CAIU NA ÁGUA E AFUNDOU. ENTÃO, CHOREI MUITO. A RÃ FOI BUSCAR A BOLA PARA MIM, MAS ME FEZ PROMETER QUE, EM TROCA, SERÍAMOS AMIGAS E ELA VIRIA MORAR COMIGO. EU PROMETI, PORQUE NUNCA PENSEI QUE UMA RÃ PUDESSE VIVER FORA DA ÁGUA.

QUESTÃO 3

LEITURA DE UM TEXTO INFORMATIVO

TUCANUÇU

O TUCANUÇU É O MAIOR DOS TUCANOS QUE VIVE EM TODO O BRASIL E ALGUNS PAÍSES QUE FAZEM PARTE DA AMAZÔNIA. EM BOA PARTE DO TEMPO ESTÃO EM BANDOS NOS TRONCOS E COPAS DE ÁRVORES. O COLORIDO DO BICO, SEU FORMATO E TAMANHO (MEDE CERCA DE 20 CENTÍMETROS) CHAMAM BASTANTE A ATENÇÃO.

ALIMENTAM-SE PRINCIPALMENTE DE FRUTAS, PORÉM COMPLETAM SUA DIETA COM ALGUNS INSETOS, ALÉM DISSO, COSTUMAM ROUBAR NINHOS DE OUTRAS AVES E DEVORAR OVOS E FILHOTES.

PARA SE REPRODUZIREM CONSTROEM NINHOS ENTRE A PRIMAVERA E O VERÃO NOS OCOS E BURACOS DE ÁRVORES EM QUE VIVEM. O CASAL SE REVEZA NA RESPONSABILIDADE POR CHOCAR OS OVOS, O QUE DEMORA ENTRE QUINZE E DEZOITO DIAS E TAMBÉM CUIDAM JUNTOS DOS FILHOTES.

3.1. DO QUE SE ALIMENTAM OS TUCANOS?

3.2. O QUÊ NO TUCANUÇU CHAMA A ATENÇÃO DAS PESSOAS?

QUESTÃO 4

LEITURA DE UM TEXTO

LEIA O TEXTO ABAIXO E RESPONDA À QUESTÃO:



*Camila,
prematura
de 7 meses
e futura
cantora.*

#DoeLeiteMaterno
/minsaude
/minsaude

*Seja doadora de leite materno e
faça a diferença na vida de muitas crianças.
Doe, incentive e ajude a escrever um futuro brilhante
para quem mais precisa.*

DISPONÍVEL EM: [HTTP://BIT.LY/2GJ9AE2](http://bit.ly/2GJ9AE2)

MARQUE UM X NA ALTERNATIVA QUE INDICA O ASSUNTO DO TEXTO ACIMA:

- A– A FAMÍLIA DO BEBÊ.
- B– DOENÇA DE UM BEBÊ.
- C– O FUTURO DE CAMILA.
- D– DOAÇÃO DE LEITE MATERNO.

AVALIAÇÃO DIAGNÓSTICA DE ENTRADA

Matemática



GOVERNO DO ESTADO DE SÃO PAULO
SECRETARIA DA EDUCAÇÃO

3º ano do Ensino Fundamental Turma _____

Fevereiro de 2017


Data ____ / ____ / ____

Escola _____

Aluno _____

QUESTÃO 1

SOFIA COLOU ADESIVOS DE FLORES EM UM CARTAZ.



QUANTOS ADESIVOS DE FLORES SOFIA COLOU NO CARTAZ?

QUESTÃO 2

CIRCULE AS CARTELAS EM QUE ESTÃO ESCRITOS OS NÚMEROS "DUZENTOS E DEZOITO" E "TREZENTOS E CINCO":

358

228

218

305

3005

QUESTÃO 3

ESCREVA NOS QUADRINHOS ABAIXO, DA ESQUERDA PARA A DIREITA, OS NÚMEROS QUE O (A) PROFESSOR (A) VAI DITAR.

QUESTÃO 4

NO COMEÇO DA FESTA DE ANIVERSÁRIO DE MARINA HAVIA 25 CRIANÇAS. MUITAS CHEGARAM ATRASADAS E AGORA HÁ 38 CRIANÇAS. QUANTAS CRIANÇAS CHEGARAM ATRASADAS?

ESCREVA SUA RESPOSTA NO QUADRINHO ABAIXO.

QUESTÃO 5

VOVÓ ZEZA QUER DAR 4 BOMBONS PARA CADA UM DE SEUS 3 NETOS. DE QUANTOS BOMBONS ELA VAI PRECISAR?

ESCREVA SUA RESPOSTA NO QUADRINHO ABAIXO

QUESTÃO 6

CALCULE O RESULTADO DA ADIÇÃO $45 + 32$.

ESCREVA SUA RESPOSTA NO QUADRINHO ABAIXO.

QUESTÃO 7

CALCULE O RESULTADO DA MULTIPLICAÇÃO 8×3 .

ESCREVA SUA RESPOSTA NO QUADRINHO ABAIXO.

QUESTÃO 8

MARIANA REGISTROU EM UMA TABELA, OS TIMES DE FUTEBOL PARA OS QUAIS OS SEUS COLEGAS DE TURMA TORCEM. OBSERVE A TABELA ABAIXO:

TIMES DA TURMA	
TIMES	NÚMERO DE TORCEDORES
CORINTHIANS	12
PALMEIRAS	12
SÃO PAULO	5
SANTOS	3

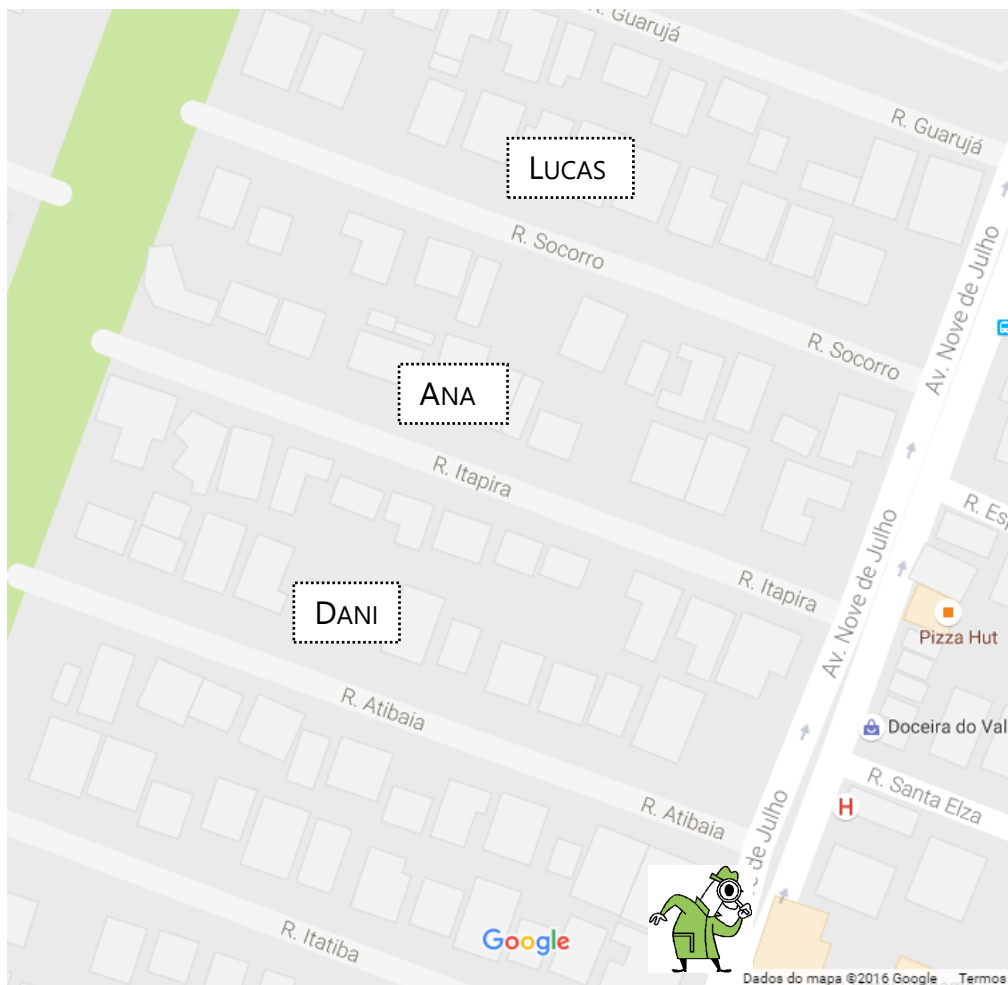
FONTE: 3º ANO A.

RESPONDA À QUESTÃO:

QUAIS TIMES TÊM A MESMA QUANTIDADE DE TORCEDORES NA TURMA DE MARIANA?

QUESTÃO 9

OBSERVE O MAPA ABAIXO:



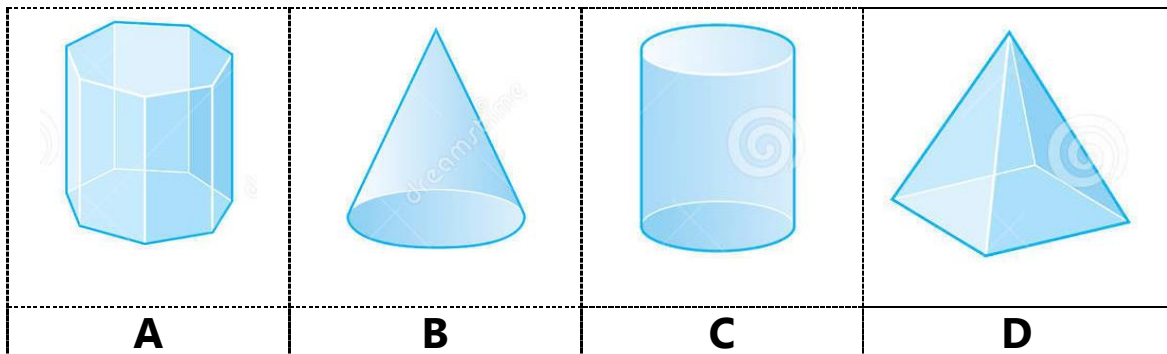
FONTE: GOOGLE MAPS.

PARA CHEGAR À CASA DE LUCAS, O DETETIVE DEVE CAMINHAR PELA AVENIDA NOVE DE JULHO E:

- A) VIRAR À ESQUERDA NA R. ITAPIRA.
- B) VIRAR À ESQUERDA NA R. SOCORRO.
- C) VIRAR À ESQUERDA NA R. ATIBAIA.
- D) VIRAR À ESQUERDA NA R. GUARUJÁ.

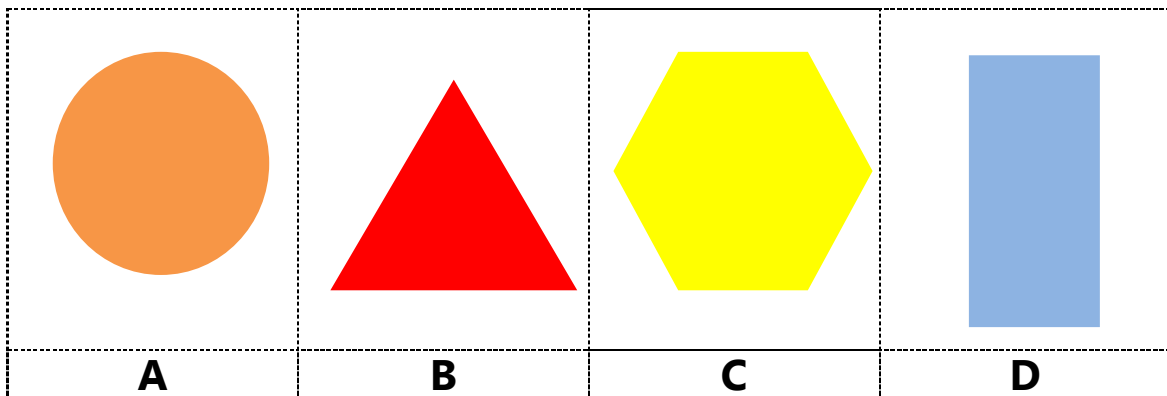
QUESTÃO 10

ASSINALE QUAL DAS FIGURAS GEOMÉTRICAS ABAIXO TEM FORMATO DE CILINDRO:



QUESTÃO 11

ASSINALE QUAL DAS FIGURAS DESENHADAS ABAIXO TEM FORMATO DE QUADRILÁTERO:



QUESTÃO 12

MÁRCIO MEDIU O COMPRIMENTO DE UM LÁPIS. QUAL DAS MEDIDAS A SEGUIR ELE PODE TER ENCONTRADO?

- A) 2 m.
- B) 2 cm.
- C) 15 cm.
- D) 1,5 m.