

Língua Portuguesa



2º ano do Ensino Fundamental Turma _____

Fevereiro de 2017 Data ____ / ____ / ____

Escola _____

Aluno _____

QUESTÃO 1

ESCRITA DO PRÓPRIO NOME

ESCREVA SEU NOME

QUESTÃO 2

DITADO DE UMA LISTA DE PALAVRAS

A PROFESSORA RENATA SOLICITOU UMA LISTA DE MATERIAIS ESCOLARES AOS ALUNOS. ESCREVA NAS LINHAS ABAIXO O QUE FOI PEDIDO.

QUESTÃO 3

ESCRITA DE UM BILHETE

NO CONTO "JOÃO E MARIA", AS CRIANÇAS CHEGAM A UMA CASINHA TODA FEITA DE DOCES E ENCONTRAM UMA VELHA SENHORA QUE OS CONVENCE A ENTRAR.

ESCREVA UM BILHETE PARA JOÃO E MARIA AVISANDO-OS SOBRE O PERIGO QUE CORREM, JÁ QUE, NA VERDADE A VELHINHA É UMA TERRÍVEL BRUXA .

QUESTÃO 4

LEITURA DE UM TRECHO DE CANTIGA

**PRIMEIRO DE ABRIL
SUA CALÇA CAIU
SEU PAI NÃO VIU
SUA MÃE DESCOBRIU**

QUESTÃO 5

LEITURA DE TEXTO INFORMATIVO

TUCANUÇU

O TUCANUÇU É O MAIOR DOS TUCANOS QUE VIVE EM TODO O BRASIL E ALGUNS PAÍSES QUE FAZEM PARTE DA AMAZÔNIA. EM BOA PARTE DO TEMPO ESTÃO EM BANDOS NOS TRONCOS E COPAS DE ÁRVORES. O COLORIDO DO BICO, SEU FORMATO E TAMANHO (MEDE CERCA DE 20 CENTÍMETROS) CHAMAM BASTANTE A ATENÇÃO.

ALIMENTAM-SE PRINCIPALMENTE DE FRUTAS, PORÉM COMPLETAM SUA DIETA COM ALGUNS INSETOS, ALÉM DISSO, COSTUMAM ROUBAR NINHOS DE OUTRAS AVES E DEVORAR OVOS E FILHOTES.

PARA SE REPRODUZIREM CONSTROEM NINHOS ENTRE A PRIMAVERA E O VERÃO NOS OCOS E BURACOS DE ÁRVORES EM QUE VIVEM. O CASAL SE REVEZA NA RESPONSABILIDADE POR CHOCAR OS OVOS, O QUE DEMORA ENTRE QUINZE E DEZOITO DIAS E TAMBÉM CUIDAM JUNTOS DOS FILHOTES.

5. DO QUE O TUCANUÇU SE ALIMENTA?

QUESTÃO 6

LEITURA DE UM TEXTO

LEIA O TEXTO ABAIXO E RESPONDA À QUESTÃO:

BRIGADEIRO

INGREDIENTES

- 1 COLHER DE MANTEIGA
- 1 LATA DE LEITE CONDENSADO
- 4 COLHERES DE SOPA DE CHOCOLATE EM PÓ
- 1 XÍCARA DE CHOCOLATE GRANULADO

COMO FAZER

NUMA PANELA JUNTE O LEITE CONDENSADO, A MANTEIGA E O CHOCOLATE EM PÓ. MISTURE BEM ATÉ INCORPORAR TUDO. LEVE AO FOGO BAIXO MEXENDO SEMPRE. QUANDO A MASSA COMEÇAR A SE DESPRENDER DO FUNDO DA PANELA PASSE A MASSA EM UM PRATO E DEIXE ESFRIAR. ENROLE OS BRIGADEIROS, PASSE NO CHOCOLATE GRANULADO E OS COLOQUE NAS FORMINHAS.

MARQUE UM X NA ALTERNATIVA QUE INDICA CORRETAMENTE PARA QUE SERVE O TEXTO ACIMA:

- A – VENDER BRIGADEIROS.
- B – COMPRAR BRIGADEIROS.
- C – APRESENTAR UM BRIGADEIRO.
- D - ENSINAR A FAZER BRIGADEIRO.

Matemática



2º ano do Ensino Fundamental Turma _____

Fevereiro de 2017

Data ____ / ____ / ____

Escola _____

Aluno _____

QUESTÃO 1

TONI TEM UMA COLEÇÃO DE BOLINHAS DE GUDE.



RESPONDA AS QUESTÕES:

A) QUANTAS SÃO AS BOLINHAS DE GUDE PRETAS?

B) QUANTAS SÃO AS BOLINHAS DE GUDE AZUIS?

C) O QUE HÁ MAIS: BOLINHAS DE GUDE PRETAS OU AZUIS?

QUESTÃO 2

CIRCULE A CARTELA EM QUE ESTÁ ESCRITO O NÚMERO QUARENTA E OITO:

18

77

48

65

84

QUESTÃO 3

ESCREVA NOS QUADRINHOS ABAIXO, DA ESQUERDA PARA A DIREITA, OS NÚMEROS QUE O(A) PROFESSOR(A) VAI DITAR.

QUESTÃO 4

DUDU TEM 25 FIGURINHAS DAS OLIMPÍADAS E HENRIQUE TEM 12.

RESPONDA:

A) QUANTAS FIGURINHAS TÊM OS DOIS MENINOS?

B) QUANTAS FIGURINHAS HENRIQUE TÊM A MENOS DO QUE DUDU?

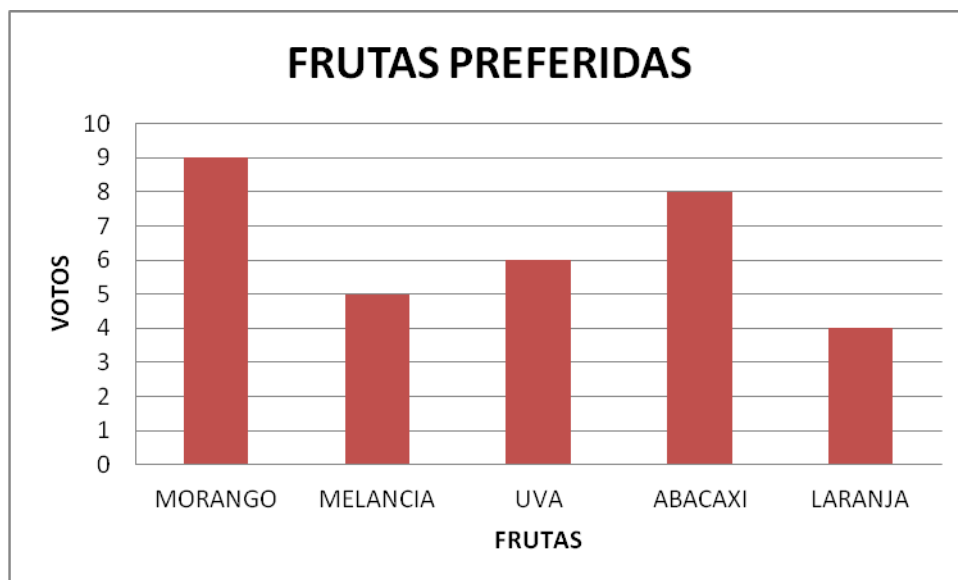
QUESTÃO 5

VANESSA TINHA 24 BISCOITOS E DEU 13 PARA SUA AMIGA. QUANTOS BISCOITOS RESTARAM?

ESCREVA A RESPOSTA NO QUADRINHO ABAIXO.

QUESTÃO 6

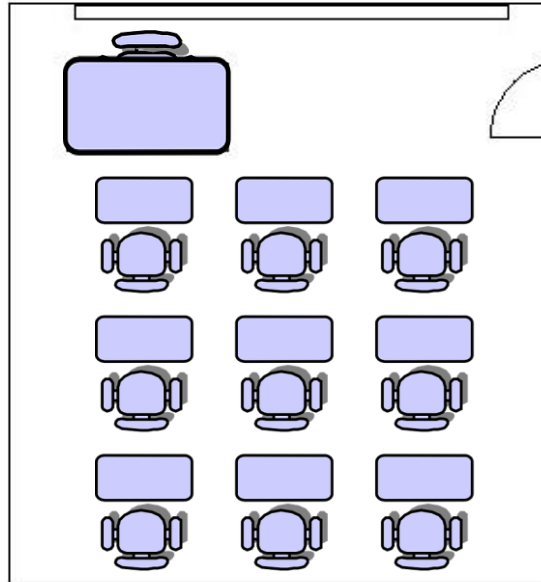
OBSERVE O GRÁFICO DE COLUNAS QUE ALICE CONSTRUIU SOBRE AS PREFERÊNCIAS DE SUA TURMA, EM RELAÇÃO A FRUTAS:



QUANTAS CRIANÇAS ESCOLHERAM A MELANCIA COMO SUA FRUTA PREFERIDA?

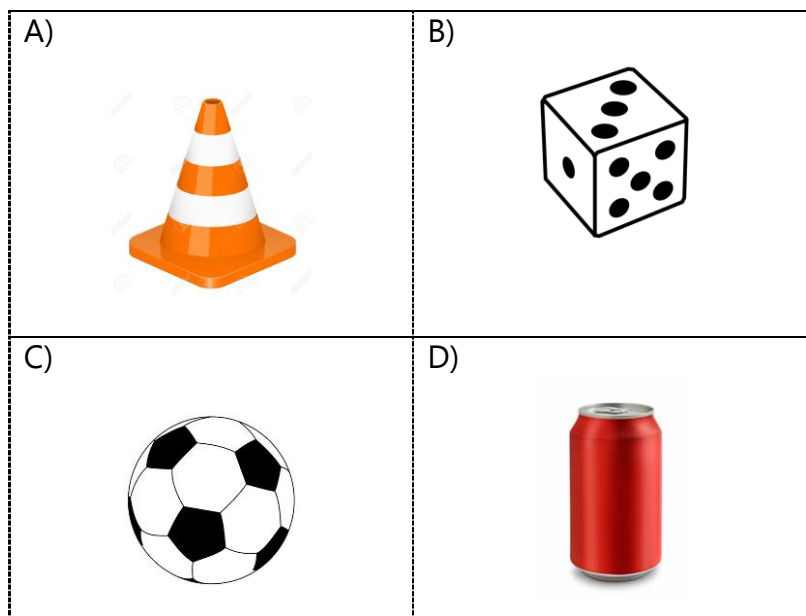
QUESTÃO 7

NA ILUSTRAÇÃO ABAIXO VOCÊ PODE OBSERVAR A PLANTA DA SALA DE AULA DA LUANA. ELA SENTA NA ÚLTIMA CADEIRA NA FILEIRA DO MEIO. ASSINALE A CADEIRA EM QUE LUANA SENTA.



QUESTÃO 8

ASSINALE QUAL DOS OBJETOS ABAIXO TEM FORMATO DE CUBO:



QUESTÃO 9

FABI TINHA VÁRIAS PULSEIRAS. COMPROU 12 E FICOU COM 24. QUANTAS PULSEIRAS FABI TINHA ANTES DA COMPRA?

ESCREVA A RESPOSTA NO QUADRINHO ABAIXO.